

1. जर $\nabla + \nabla + \circ = 120$ आणि $\circ \times \circ = 100$ तर $\nabla - \circ = ?$
 a) १५ b) ११० c) ४५ d) ६५
 If $\nabla + \nabla + 0 = 120$ & $0 \times 0 = 100$ then $\nabla - 0 = ?$
 a) 15 b) 110 c) 45 d) 65
2. ८९ ही संख्या रोमन संख्या चिन्हात कशी लिहाल.
 Roman numeral equivalent to hindu arabic 89 is
 a) LXIL b) IXC c) XIC d) LXXIX
3. जेनी व हेन्री या दोघांनी एका विक्री जाहिरातीत एकूण ९० चॉकलेट विकले. हेन्रीने जेनीपेक्षा दुप्पट चॉकलेट विकले. तर जेनीने किती चॉकलेटस विकल्या?
 a) ३० b) ६० c) ४६ d) २३
 Jenny and henry sold together 90 chocolates during a sales promotion. Henry sold twice as many chocolates than Jenny. How many chocolates did Jenny sell?
 a) 30 b) 60 c) 46 d) 43
4. $९,२४६ \times २ \times १० = ?$
 a) १,८४,९२० b) १,८०,९३० c) १८,४९२ d) 0
 $9,246 \times 2 \times 10 = ?$
 a) 184,920 b) 180,930 c) 18492 d) 0
5. १८ चे एकूण विभाजक किती?
 a) ४ b) ६ c) ७ d) ८
 How many divisors of 18?
 a) 4 b) 6 c) 7 d) 8
6. प्रत्येक मुलाला २०० मिली दुध याप्रमाणे ५ मुलांना वाटण्यासाठी किती लिटर दुध लागेल?
 a) ४ b) ६ c) ७ d) ८
 If one student is given 200 ml of milk, then How many liters of milk is required for 5 students?
 a) 4 b) 6 c) 7 d) 8
7. १५ फेब्रुवारी २००८ रोजी शुक्रवार होता तर त्या महिन्यात कोणता वार पाच वेळा येतो?
 a) गुरुवार b) शुक्रवार c) शनिवार d) यापैकी नाही
 On 15 February 2008 it was Friday. In the same month, Which day will come five times.
 a) Thursday b) Friday c) Saturday d) None of these

8. जर ५४३८, ५८३५, ४८७६, ४८४२ संख्या उतरत्या क्रमाने मांडल्यास ३ व्या व ४ थ्या संख्येतील फरक किती?

- a) ५९६ b) ९५९ c) ५६२ d) ३४

If the numbers 5438, 5835, 4876, 4842 are arranged in descending order then what will be the difference between the third and fourth numbers.

- a) 596 b) 959 c) 562 d) 34

9. $५८८ + \square = १०००$, तर $\square = ?$

- a) ४२१ b) ४२२ c) ४१२ d) ५१२

$588 + \square = 1000$; then $\square = ?$

- a) 421 b) 422 c) 412 d) 512

10. ५०४ मी. लांबीची तार ८ ठिकाणी समान अंतरावर कापली तर प्रत्येक तुकडा किती मी. लांबीचा होईल?

- a) ५६ b) ६८ c) ६३ d) ५४

If a 504 m long wire is cut in 8 equal parts. What is the length of each part in meter.

- a) 56 b) 68 c) 63 d) 54

11. आसाम राज्याची राजधानी कोणती?

- a) गुवाहाटी b) दिसपूर c) शिलॉंग d) इटानगर

What is the capital of the state of Assam?

- a) Guwahati b) Dispur c) Shillong d) Itanagar

12. ७५३४५ या संख्येत किती मिळवल्यास तिला ९ ने निःशेष भाग जाईल?

- a) २ b) ३ c) ५ d) ८

Which number should be added to 75345. So that the number is exactly divisible by 9?

- a) 2 b) 3 c) 5 d) 8

13. 'गुलाबी शहर' म्हणून कोणते शहर ओळखले जाते?

- a) जयपूर b) जोधपुर c) इदपूर d) रायपूर

Which city is known as 'Pink City'?

- a) Jaipur b) Jodhpur c) Idpur d) Raypur

14. $५\frac{१}{९}$ चे रूप होय.

- a) $\frac{४७}{९}$ b) $\frac{४६}{९}$ c) $\frac{४३}{९}$ d) यापैकी नाही

$5\frac{1}{9}$ is same as

- a) $\frac{47}{9}$ b) $\frac{46}{9}$ c) $\frac{43}{9}$ D) None of these

15. आसाममधील काजीरंगा राष्ट्रीय उद्यानाचे कोणता प्राणी प्रमुख आकर्षण आहे?

- a) झेब्रा b) सिंह c) एक शिंगी गेंडा d) जिराफ

Which Animal is the main attraction in Assam's Kaziranga national park?

- a) Zebra b) Lion c) Rhinoceros d) Giraffe

16. खालील पैकी कोण क्षेत्रातील व्यवसायिक गणवेश परिधान करतात?

- a) पायलट b) पोस्टमन c) वकील d) वरील पैकी सर्व

In which job the professional wears the uniform?

- a) Pilot b) Postman c) lawyer d) All of these

17. चंद्रावर पोहोचणारा पहिला माणूस कोण?

- a) राकेश शर्मा b) कल्पना चावला c) नील आर्मस्ट्रॉंग d) युरी गॅगरिन

Who was the first man to step on the moon?

- a) Rakesh Sharma b) Kalpna Chawla c) Neil Armstorng d) Yuri Gagarin

18. ची निर्मिती लाखो वर्षापूर्वी जमिनीखाली गाडल्या गेलेल्या वनस्पती व प्राण्यांपासून होते?

- a) वाळूचे दगड b) कोळसा c) ग्रॅनाईट d) खडक

..... is formed from trees and other plants which died millions of years ago.

- a) Sand stone b) Coal c) Granite d) Slate

19. लांब पल्ल्याच्या वाहतुकीसाठी हा सर्वात स्वस्त वाहतुकीचा प्रकार आहे.

- a) हवाई वाहतूक b) महामार्ग c) रेल्वे वाहतूक d) जलवाहतूक

Which is the cheapest means of transport for long route.

- a) Air Transport b) Road Transport c) Rail Transport d) Sea Transport

20. कडाक्याच्या थंडीमुळे पिकाचे नुकसान होते?

- a) संत्रा b) द्राक्ष c) आंबा d) काजू

Extreme cold causes loss of Crop.

- a) Orange b) Grapes c) Mango d) Nuts

21. सजीवांच्या वाढीसाठी कशाची गरज नाही?

- a) निवारा b) हवा c) पाणी d) अन्न

What is not needed for the growth of living things?

- a) Shelter b) Air c) Water d) Food

22. जास्तीचे अन्न फुलकोबीच्या साठवले जाते.

- a) फुलात b) पानात c) देठात d) मुळात

Extra food is stored in the of a cauliflower.

- a) Flower b) Leaf c) Stem d) Root

23. पृथ्वीच्या सूर्याभोवतीच्या एका फेरीला लागणाऱ्या वेळेला म्हणतात.

- a) दिवस b) आठवडा c) महिना d) वर्ष

The Time that the earth takes to revolve around the sun is called a

- a) Day b) Weekly c) Month d) Year

24. खालीलपैकी कशास हिरवे सोने असे म्हणतात?

- a) तंबाखू b) चहा c) धान्योत्पादन d) द्राक्षोत्पादन

Which of the following is known as Green Gold?

- a) Tobacco b) Tea c) Grain Production d) Grapes Production

25. भारत अणुशक्ती संपन्न झाला कोणत्या वर्षी?

- a) १९७१ b) १९७४ c) १९८४ d) १९८०

The India became an atomic country in

- a) 1971 b) 1974 c) 1984 d) 1980

26. आपल्या शरीरास लोहाची आवश्यकता असते हे लोह आपणास कोणत्या अन्नपदार्थातून भरपूर प्रमाणत मिळू शकते?

- a) मांस व मासे b) दुध व दुधाचे पदार्थ
c) हिरवा भाजीपाला d) बटाटे व साबुदाना

Our body needs minerals. Which of the following food items provides these minerals in large quantity?

- a) Meat and Fishes b) Milk and Milk Products
c) Green vegetables d) Potato and Sago

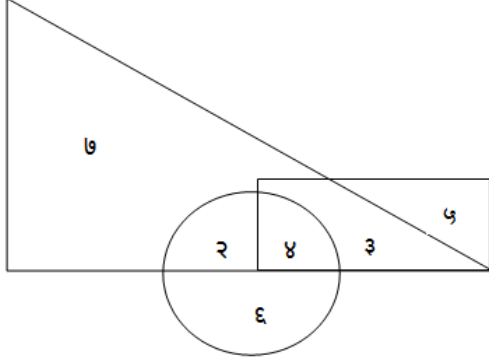
27. खालीलपैकी वजनाचे सर्वात मोठे एकक कोणते?

- a) टन b) किलोग्रॅम c) ग्रॅम d) क्विंटल

Which of this units of weights is the largest?

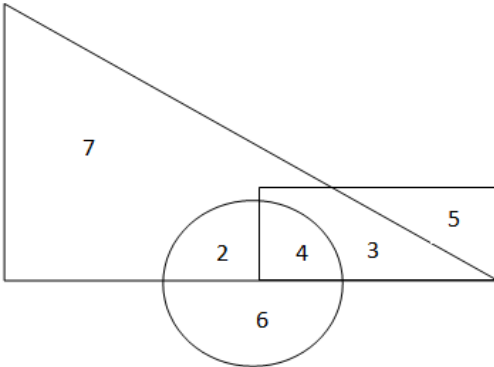
- a) Ton b) Kilogram c) Gram d) Quintal

28. सोबतच्या वेन आकृत मध्ये त्रिकोणात व वर्तुळात असलेल्या संख्यांची बेरीज किती?



- a) २ b) ८ c) ६ d) ४

What is the sum of the numbers in triangle and circle in the given venn diagram



- a) 2 b) 8 c) 6 d) 4

29. खालील प्रश्नात पहिल्या पदाचा दुसऱ्या पदाशी जो संबंध आहे अगदी तसाच संबंध तिसऱ्या पदाचा चौथ्या पदाशी हे लक्षात घेऊन प्रश्नचिन्हाच्या जागी येणारा पर्याय शोधा.

$$? : 3 :: 48 : 4$$

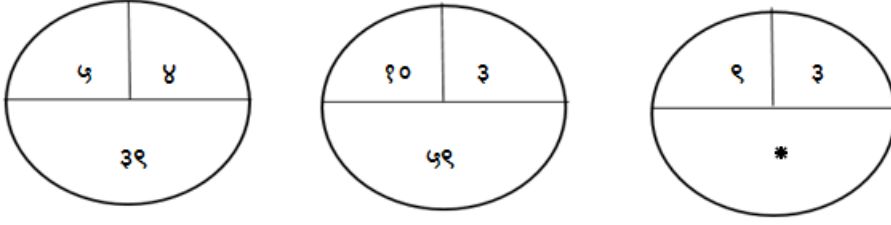
- a) २६ b) १२ c) १८ d) १५

In the question below, the first and second terms have a specific relationship. The same relationship occurs between the third and fourth terms. Which term will replace the question mark?

$$? : 3 :: 48 : 4$$

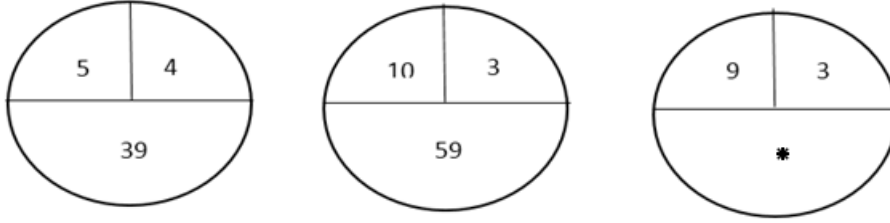
- a) 26 b) 12 c) 18 d) 15

30. * या चिन्हाच्या जागी येणारी संख्या पर्यायातून शोधा.



- a) ५२ b) ५४ c) ५३ d) ५५

Find the number at the place of * mark?



- a) 26 b) 12 c) 18 d) 15

31. जर GO = ४, BIG = ९, BULL = १६ तर CROWN = किती?

- a) २५ b) ३६ c) १६ d) ४९

If GO = 4, BIG = 9, BULL = 16 then CROWN = ?

- a) 25 b) 36 c) 16 d) 49

32. खालील संख्या मालेत प्रश्नचिन्हाच्या जागी काय येईल?

१३२, २५३, ३७४, ?

- a) ५१५ b) ४८५ c) ४९५ d) ५०५

In the given number pattern which number will occurs at the question mark?

- a) 515 b) 485 c) 495 d) 505

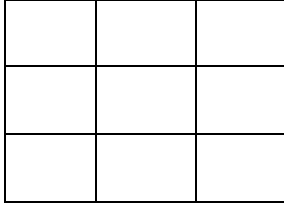
33. सन १९९७ च्या प्रजासत्ताक दिनी रविवार होता; तर खालील पैकी कोणत्या वर्षी प्रजासत्ताक दिनी रविवारच होता?

- a) १९९१ b) १९९२ c) १९९३ d) १९९४

Republic Day in the year 1997 fell on Sunday. In which year from the following it was on the same day.

- a) 1991 b) 1992 c) 1993 d) 1994

34. खालील आकृतीत चौरस किती?



- a) १२ b) १४ c) १३ d) १५

How many squares are there in the figure given below.

- a) 12 b) 14 c) 13 d) 15

35. एका रांगेत सायली एका टोकाकडून २०वी आहे. सायली आणि अनिल यांच्या मध्ये २ मुले आहेत, तर अनिलचा रांगेतील क्रमांक कितीवा आहे?

- a) १९ वा b) १७ वा c) २१ वा d) २५ वा

In a row, sayali is at the 20th place from one end of the Sayli & Anil. What is Anil's place in the queue?

- a) 19th b) 17th c) 21st d) 25th

36. खालीलपैकी कोणती नदी बंगालच्या उपसागराला मिळत नाही?

- a) तापी b) वैगई c) गोदावरी d) महानदी

Which of the following rivers does not meet the bay of bengal?

- a) Tapi b) Vaigai c) Godavari d) Mahanadi

37. योग्य पर्यायची निवड करा.

पाणी : लिटर : कापड : ?

- a) सेल b) मीटर c) पोशाख d) मापन

Choose the correct option

Water : liter :: cloth : ?

- a) Sale b) Meter c) Dress d) Scale

38. खालील अंकमालेत पुढे कोणत्या संख्या येतील?

३, १०, १८, २७, ३७,,

- a) ४८, ५८ b) ४८, ६० c) ४८, ५० d) ४८, ५६

Find the missing term in the following number series

3, 10, 18, 27, 37,,

- a) 48, 58 b) 48, 60 c) 48, 50 d) 48, 56

39. खालील मालिका पूर्ण करा?

ED, FC, GB, ?

- a) HB b) HD c) HF d) HA

Complete the following series.

ED, FC, GB, ?

- a) HB b) HD c) HF d) HA

40. भरतातील सर्वात मोठे गोड पाण्याचे सरोवर कोणते?

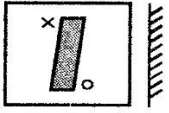
- a) पवई सरोवर b) वुलर सरोवर c) चिल्का सरोवर d) दाल सरोवर

Name the largest fresh water lake in India?

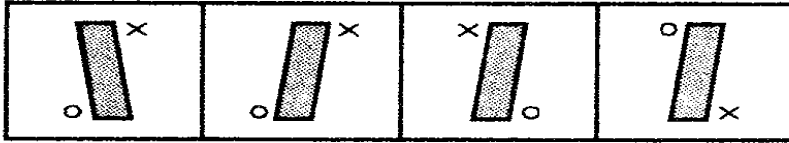
- a) Powai lake b) Wular lake c) Chilka lake d) Dal lake

41. खालील प्रश्न आकृतीत आरशातील प्रतिमा कशी दिसेल ते पर्यायी आकृत्यांमधून शोधा .

प्रश्न आकृती



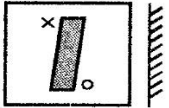
उत्तर आकृत्या



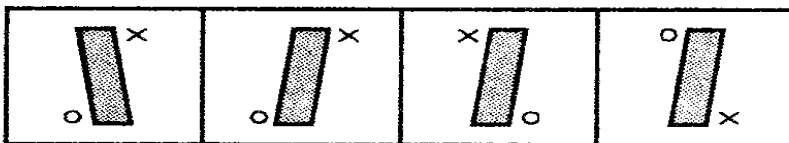
- a) b) c) d)

Find the mirror image of the question figure from the option figures.

Question figure



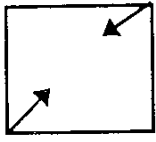
Answer figure



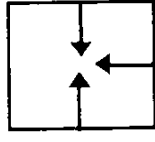
- a) b) c) d)

42. खालील प्रश्नात गटात न बसणाऱ्या आकृतीचा पर्याय निवडा.

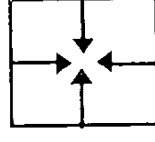
Find the odd man out from the figures given in the question below.



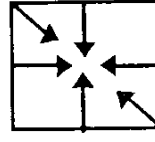
a)



b)



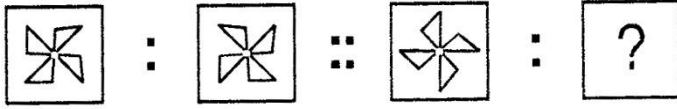
c)




d)

43. खालील आकृत्यांमध्ये विशिष्ट प्रकारचा क्रम आहे. तो क्रम ओळखून प्रश्न चिन्हाच्या जागी येणाऱ्या आकृतीचा पर्याय निवडा.

प्रश्न आकृती




उत्तर आकृत्या



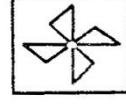
a)



b)



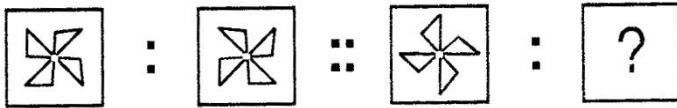
c)



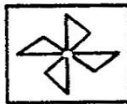
d)

Find the missing figure in the series given below.

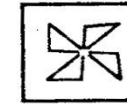
Question figure



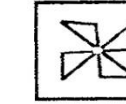
Answer figure



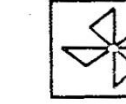
a)



b)




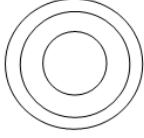
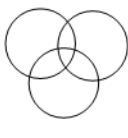
c)



d)


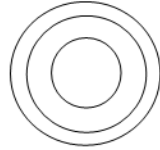
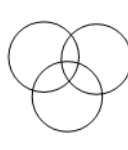
44. पुढे एक शब्द संच दिलेला आहे त्यामधील घटकांचा संबंध पुढील पैकी कोणती आकृती उत्तम तऱ्हेने दाखवते.

शाळा, शिक्षक, विद्यार्थी.

- a)  b)  c)  d) यापैकी नाही

Three words set is given below which of the given venn diagrams shows the relationship among three sets perfectly.

School, Teacher, Student.

- a)  b)  c)  d) None of these

45. पुढील घटकांचा सुयोग्य क्रम कोणता असेल?

A) इंद्रधनुष्य B) पाऊस C) सूर्य D) आनंद E) मुल

- a) ABCDE b) CBAED c) BCAED d) BCAED

What is the perfect sequence of the terms given below

A) Rainbow B) Rain C) Sun D) Happiness E) Children

- a) ABCDE b) CBAED c) BCAED d) BCAED

46. प्रश्नचिन्हाच्या जागी योग्य पर्याय निवडून लिहा.

पक्षी : पतंग : मासा : ?

- a) पाणी b) खाद्यपदार्थ c) वास d) पाणबुड्या

Find the word in the place of Question mark.

Bird : Kite :: Fish :?

- a) water b) food c) smell d) Submarine

47. खालील पैकी अशुद्ध शब्द ओळखा.

- a) जमीन b) अनुकूल c) बिनचूक d) बलिदान

48. 'पाऊलवाट' या शब्दातील अक्षरापासून दोन अक्षरी किती अर्थपूर्ण शब्द तयार होतील?

- a) आठ b) सात c) पाच d) सहा

49. 'कळ लावणे' या वाक्यप्रकारातील 'कळ' शब्दाचा नेमका अर्थ काय?
- a) वेदना b) भांडणे c) भांडण d) पाठपुरावा
50. 'तमा' या शब्दाचा समानार्थी शब्द निवडा.
- a) अंधार b) पर्वा c) पाप d) आधार
51. वि. वि. या संक्षिप्त रूपाचे पूर्ण रूप ओळखा.
- a) विनंती विशेष b) विशेष विनंती c) विषय विवेचन d) विनंती विषय
52. 'जमिनी खालील गुप्त मार्ग' या शब्द समूहाबद्दल एक शब्द पर्यायातून निवडा?
- a) घाट b) खंदक c) भुयार d) बोगदा
53. कुत्र्याचे भुंकणे तसे म्हशीचे
- a) ओरडणे b) रेकणे c) हंबरणे d) केकाटणे
54. Sugar is sweet but lemon is
- a) Crook b) Fruit c) Yellow d) Sour
55. Fill in the box with proper letter.

	a	t	e	r
e				
l				
l				

- a) t b) c c) b d) w
56. Find out the odd pair.
- a) Buy - Bought b) Catch - Caught c) Teach - Taught d) Sing - Saught
57. Fill in the blanks with proper article.
- best book.
- a) A b) An c) The d) No articale

58. Find out the correct opposite word.

Sharp

- a) Blunt b) Dull c) Razor d) Clever

59. Fill in the blanks

Let's in the shade.

- a) Hid b) Hide c) Is hiding d) Hides

60. Find out the contracted form of :

Must not

- a) Mustn't b) Must c) Mus't d) Must's

61. Find out the correct word?

- a) Vahecle b) Vehicle c) Vehecle d) Vahicle

62. सुंदरबनवन आहे.

- a) काटेरी b) भरतीचे c) पानझडी d) यापैकी नाही.

The Sunderban is a forest ?

- a) Thorn b) Tidal c) Coniferous d) None of these

63. डोंगरावर बांधता येतात.

- a) रस्ते b) जलमार्ग c) वायुमार्ग d) यापैकी नाही

..... can be constructed on mountains?

- a) Roadways b) Waterways c) Airways d) None of these

64. खालीलपैकी जैविक घटक कोणता?

- a) ढग b) डोंगर c) वनस्पती d) हवा

Which of the following is a biotic factor?

- a) Cloud b) Mountain c) Plant d) Air

65. महाराष्ट्रातील किनारपट्टीचा प्रदेश पसरता आहे.

- a) उत्तर - दक्षिण b) पूर्व - पश्चिम c) उत्तर - पूर्व d) पश्चिम - उत्तर

Castel area of Maharashtra is Spreaded.

- a) North-South b) East-West c) North-East d) West-North

66. महाराष्ट्र राज्याला किमी लांबीचा समुद्र किणारा लाभला आहे.

- a) ८०० b) ७२० c) ७०० d) ८२०

..... km is the length of the sea coast of Maharashtra.

- a) 800 b) 720 c) 700 d) 820

67. पेंच हे राष्ट्रीय उद्यान कोणत्या जिल्ह्यात आहे.

- a) चंद्रपूर b) अमरावती c) नागपूर d) गोंदिया

In which district is the Pench National Park?

- a) Chandrapur b) Amravati c) Nagpur d) Gondia

68. अकोला जिल्ह्यात हे औष्णिक विद्युत केंद्र आहे?

- a) परळी b) पारस c) एकलहरे d) चोला

Which thermal Power Station is in Akola district?

- a) Parali b) Paras c) Eklahare d) Chola

69. खालीलपैकी पारंपारिक उर्जा साधन कोणते?

- a) बायोगॅस b) सूर्यप्रकाश c) नैसर्गिक वायू d) वारा

Which of the following is a conventional energy resource?

- a) Biogas b) Sunlight c) Naturalgas d) Wind

70. खालीलपैकी कोणते व्यापारी पिक नाही?

- a) मका b) कापूस c) ऊस d) तंबाखू

Which of the following crops is not a commercial crop?

- a) Maize b) Cotton c) Sugarcane d) Tobacco

71. सुएझ कालव्याची सर्वसाधारण लांबी आहे.

- a) १०० किमी b) १५० किमी c) १७० किमी d) २५० किमी

Normal length of Suez Canal is

- a) 100 km b) 150 km c) 170 km d) 250 km

72. महाराष्ट्र राज्याची स्थापना

- a) १ मे १९६० b) १ मे १९६२ c) १ मे १९६४ d) १ मे १९६६

Maharashtra state established on

- a) 1st May 1960 b) 1st May 1962 c) 1st May 1964 d) 1st May 1966

73. लोक देशाचे सामर्थ्य वाढवू शकतात.
 a) धनवान b) बुद्धिहीन c) निरोगी d) गरीब
 People increases the power of the nation?
 a) Rich b) Unintelligent c) Healthy d) Poor
74. खालीलपैकी कोणती नैसर्गिक आपत्ती आहे?
 a) बॉम्बस्फोट b) त्सुनामी c) दंगल d) इमारत कोसळणे
 Which of the following is a natural disaster?
 a) Bomb blast b) Tsunami c) Riot d) Building Collapse
75. नागरी सुविधा या लोकांसाठी असतात.
 a) गरीब b) श्रीमंत c) उच्च d) सर्व
 Civic amenities are for
 a) Poor b) Rich c) High d) All of these
76. शिवरायांनी राज्य कारभाराची खात्यांत विभागणी केली होती?
 a) १० b) १२ c) ८ d) ७
 Shivaji divided the administration of his kingdom into departments.
 a) 10 b) 12 c) 8 d) 7
77. सिंहगड मावळ्यांनी सन साली जिंकला?
 a) १६७० b) १६७४ c) १६६६ d) १६६५
 Mavlas won the fort 'Sinhgad' in
 a) 1670 b) 1674 c) 1666 d) 1665
78. पुरंदरच्या तहात शिवरायांनी मुघलांना किल्ले देण्याचे कबुल केले?
 a) २४ b) २३ c) २१ d) ३१
 Shivaji Maharaj agreed to handed over Forts to the emperor.
 a) 24 b) 23 c) 21 d) 31
79. शिवाजी महाराजांच्या अफजलखान भेटीच्या वेळी अफजलखानचा वकील कोण होता?
 a) काझी हैदर b) जिवाजी महाल
 c) कृष्णा भास्कर कुलकर्णी d) पंताजी गोपीनाथ

86. कथकली हा नृत्य प्रकार या राज्याचे एक सांस्कृतिक वैभवच होय.

- a) केरळ b) ओडिशा c) उत्तरप्रदेश d) तामिळनाडू

Kathakali dance is a cultural heritage of State?

- a) Kerala b) Orissa c) uttar Pradesh d) Tamilnadu

87. भारताचे केंद्रीय मनुष्यबळ मंत्री कोण आहेत?

- a) मुरलीमनोहर जोशी b) सुषमा स्वराज
c) स्मृती इराणी d) अरुण जेटली

Who is the Human resource minister of India?

- a) Murlimanohar Joshi b) Sushma Swaraj
c) Smriti Irani d) Arun Jaitley

88. जगप्रसिद्ध ताजमहाल कोणत्या शहरात आहे?

- a) मथुरा b) दिल्ली c) आग्रा d) अलिगड

In which city the world famous 'Tajmahal' is

- a) Mathura b) Delhi c) Agra d) Aligarh

89. भारतातील सार्वजनिक क्षेत्रातील सर्वात मोठी असणारी बँक कोणती?

- a) राष्ट्रीय कृषी व ग्रामीण विकास बँक
b) रिजर्व बँक ऑफ इंडिया
c) स्टेट बँक ऑफ इंडिया
d) भारतीय औद्योगिक विकास बँक

Which is the biggest public sector bank in India?

- a) National Agriculture & Rural Development Bank
b) Reserve Bank of India
c) State Bank of India
d) Industrial Development Bank of India

90. महाराष्ट्रातील शिरपूर पॅटर्न कशासंबंधी प्रसिद्ध झाला?

- a) पाणी नियोजन b) कुपोषण c) सुशासन d) रस्ते विकास

Shirpur Pattern of Maharashtra is became famous for

- a) Water Planning b) Malnutrition c) Good Governance d) Road Development

91. सार्वजनिक शिवजयंतीची सुरुवात सर्व प्रथम कोणी केली?

- a) महात्मा जोतीबा फुले
b) संत गाडगे बाबा
c) डॉ. बाबासाहेब आंबेडकर
d) यापैकी नाही

Who started first public 'Shiv Jayanti'

- a) Mahatma Jyotiba Fule
b) Saint Gadgebaba
c) Dr. Babasaheb Ambedkar
d) None of these

92. गोव्याच्या राजधानीचे शहर कोणते?

- a) वास्को द गामा b) पणजी c) गोवा d) मुंबई

What is the Gova's capital city?

- a) Vasco da Gama b) Panaji c) Goa d) Mumbai

93. खालीलपैकी कोणते स्थळ मुंबईत नाही?

- a) गेट वे ऑफ इंडिया b) कमला नेहरू पार्क
c) जुहू बीच d) चारमिनार

Which of these place is not located in Mumbai?

- a) The Gate way of India b) The Kamala Neharu Park
c) The Juhu Beach d) The Charminar

94. CRY ही अशासकीय संस्था (NGO) ही देशात विशेषतः कोणत्या समाज घटकासाठी कार्यरत आहे?

- a) महिला b) अपंग c) बालके d) मागासवर्गीय

The non-Governmental organization (NGO) CRY specially works for elements.

- a) Women b) Disabled c) Children d) Backward

95. भारतातील पहिली मोने रेल्वे कोणत्या शहरात धावली?

- a) दिल्ली b) मुंबई c) चेन्नई d) कोलकता

In which city India's first Mono Rail started?

- a) Delhi b) Mumbai c) Chennai d) Kolkata

96. खालीलपैकी जागतिक आरोग्य दिन कोणता?

- a) १२ जानेवारी b) ७ एप्रिल c) २२ एप्रिल d) २४ जानेवारी

Which of the following is the World Health Day?

- a) 12 January b) 7 April c) 22 April d) 24 January

97. भारताचे राष्ट्रपती कोण आहे?

- a) मोहम्मद हमीद अन्सारी
b) प्रणव मुखर्जी
c) डॉ. ए.पी.जे. अब्दुल कलाम आजाद
d) यापैकी नाही

Who is the president of India?

- a) Mohammad Hamid Ansari
b) Pranab Mukherjee
c) Dr. A.P.J. Abul Kalam Azad
d) None of these

98. रेडीओचा शोध कोणी लावला?

- a) जी.मार्कोनी
b) कार्ल बेंझ
c) अल्फ्रेड नोबेल
d) यापैकी नाही

Who invented radio?

- a) G. Marconi
b) Karl Benz
c) Alfred Nobel
d) None of these

99. कोडाईकॅनल ह्या राज्यात आहे?

- a) कर्नाटक
b) आंध्रप्रदेश
c) तामिळनाडू
d) महाराष्ट्र

Kodai Canal is located in state.

- a) Karnataka
b) Andhrapradesh
c) Tamilnadu
d) Maharashtra

100. 'ईस्रो' ची स्थापना कोणी केली?

- a) डॉ.विक्रम ए. साराभाई
b) डॉ. राजू रमन्ना
c) डॉ. ए.पी.जे. अब्दुल कलाम आजाद
d) होमी जे. भाभा

The 'ISRO' was founded by

- a) Dr.Vikram A. Sarabhai
b) Dr. Raju Ramanna
c) Dr. A.P.J. Abul Kalam Azad
d) Homi J. Bhabha