

प्रश्नपुस्तिका पर्यवेक्षकांनी सांगितल्याशिवाय उघडू नये...

Do not open this booklet until asked to do so...

# RATIONALIST TALENT SEARCH EXAM 2016

## RTSE

Question Booklet

STD : III

वर्ग: ३ रा

Roll No.

--	--	--	--	--	--	--	--

Date of Examination : 07 February 2016 Sunday

Time : 10.00 AM to 11.40 AM

### परीक्षार्थीसाठी सुचना / Guidelines for the Candidate

1. आपल्याच नावाची व परिक्षा क्रमांकाची उत्तर पत्रिका मिळाल्याची खात्री करून घ्यावी.  
Check to make sure that you have received the appropriate answer sheet of your name and roll number.
2. परिक्षा सुरु होण्यापूर्वी विद्यार्थ्यांना त्यांच्या संपूर्ण माहितीची खात्री करण्यासाठी 30 मिनिटे अधिक वेळ देण्यात येईल.  
You will get additional 30 minutes to check and make sure about the information about yourself on the Answer Sheet before the start of the exam.
3. सदर प्रश्नपुस्तिकेमध्ये एकूण 100 प्रश्न असून प्रत्येक प्रश्नासाठी 2 गुण आहेत.  
This question booklet contains 100 questions each question carries 2 marks.
4. सर्व प्रश्न सोडविणे आवश्यक आहे. चुकीच्या उत्तराबद्दल मिळालेल्या गुणातून कुठल्याही प्रकारचे गुण वजा केले जाणार नाहीत.  
All questions are compulsory. There is no negative marking.
5. आपल्याच वर्गाची प्रश्नपुस्तिका मिळाल्याची खात्री करून घ्यावी.  
Check to make sure that you have received the appropriate test booklet for your standard.
6. पर्यायामध्ये केवळ एकच उत्तर बरोबर आहे. बरोबर उत्तरासाठी एकच पर्याय निवडावा.  
There is only one correct answer. Choose only one option for an answer.
7. उत्तराचा पर्याय रंगविण्यासाठी केवळ काळा/ निळा रंगाचा बॉलपेनच वापरावा.  
To mark your choice of answers by darkening the circles in the Answer Sheet, use a **Blue/Black Ball, Pen only. Eg.**

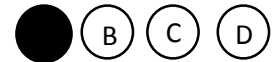
**Q. x : - Fill in the blanks.**

**My father went..... To buy some milk.**

- a) there                      b) their                      c) They're                      d) here

As the correct answer is option a) you must darken the circle corresponding Q. x

To option a) in the Answer Sheet



8. परिक्षा संपल्यावर तुमची उत्तरपत्रिका पर्यवेक्षकाकडे परत करावी.  
Return the Answer Sheet to the invigilator at the end of the exam.
9. आपल्या परिक्षा क्रमांक प्रश्नपुस्तिकेवर सुध्दा लिहावा व सदर प्रश्नपुस्तिका परिक्षा कालावधीनंतर आपल्या सोबत न्यावी.  
Write your Roll No. on the Question Paper too and take it home for future reference.

Visit [www.rtsexam.com](http://www.rtsexam.com) for Answer key after 8 days

1. खालीलपैकी शुध्द शब्द ओळखा.  
A) ठिसूळ                      B) ठिसुळ                      C) ठीसूळ                      D) ठीसळ
2. खालील वाकप्रचाराचा अर्थ ओळखून दिलेल्या पर्यायातून योग्य उत्तराचा पर्याय निवडा.  
फितुरी करणे  
A) माहिती घेणे                      B) तुरी पिकविणे  
C) हेरगिरी करणे                      D) गुप्त माहिती शत्रूला पुरविणे
3. खालील शब्दाचा विरुद्धार्थी शब्द शोधा.  
साध्य X  
A) नासाध्य                      B) असाध्य                      C) असभ्य                      D) साधक
4. 'ढग' या शब्दाचा समानार्थी शब्द कोणता?  
A) सलील                      B) अंबुद                      C) नभ                      D) नीर
5. खाली दिलेल्या शब्दासाठी योग्य समूहदर्शक शब्द ओळखा.  
केळीच्या -  
A) जाळी                      B) बन                      C) बागा                      D) रान
6. 'अनंत' या शब्दाचा अर्थ पर्यायातून शोधा.  
A) अमर्याद                      B) नंतर                      C) अंतर                      D) भाव
7. खालील शब्दातील नंपुसकलिंगी शब्द ओळखा.  
A) मेरू                      B) तरू                      C) बोरू                      D) यापैकी नाही
8. Tick the feminine gender of the word given below.  
**Bachelor**  
A) Groom                      B) Married                      C) Bride                      D) Spinster
9. Name the one word substitute for the following phrases.  
One who is unable to read or write -  
A) Illiterate                      B) Foolish                      C) Literate                      D) Lazy
10. Fill in the blanks with the most suitable question word:  
\_\_\_\_\_ is the baby crying?  
A) When                      B) who                      C) why                      D) whom
11. Fill in the blanks with most suitable adverb:  
Hema and I \_\_\_\_\_ see each other these days.  
A) rarely                      B) very                      C) more                      D) rather

12. Fill in the blanks with the most suitable adjectives:  
Rohit is the \_\_\_\_\_ of all my friends  
A) Laziest B) Lazy C) Lazier D) none of these
13. Find out the noun in the sentence given below.  
The king has to fight all the enemies  
A) King B) has C) fight D) all
14. Find out the type of sentence given below  
He was proud of his house  
A) Request B) Statement C) Question D) Exclamation
15. Complete the following proverb selecting the correct option.  
\_\_\_\_\_ before you leap.  
A) See B) Observe C) Measure D) Look
16. खालील संख्या अक्षरात लिहावयाची आहे.  
त्यासाठी उत्तराचा योग्य पर्याय निवडा.  
९६९  
A) नऊशे एकोणसत्तर B) नऊशे शहाण्णव  
C) नऊशे साठ D) नऊशे नव्वद  
Write in words the following figure choose correct answer option  
969  
A) Nine hundred and sixty- nine  
B) Nine hundred and ninety-six  
C) Nine hundred and sixty  
D) Nine hundred and ninety
17. खालील बेरीज करा व उत्तराचा अचूक पर्याय निवडा.  
 $४७२ + २०९ + १२३ = ?$   
A) ७९४ B) ९०४ C) ८०४ D) ८१४  
Solve the following sums and select the correct answer option.  
**472+209+123 =?**  
A) 794 B) 904 C) 804 D) 814
18. शामरावांनी ५०० रु. मिनाताई ने १०१ रु. व रोहन ने ११ रु. शाळेला देणगी दिली. तर तिघांनी मिळून एकूण किती देणगी शाळेला दिली?  
A) ४१२ B) ६९२ C) ५१२ D) ६१२  
Shamrao donated Rs.500, Meenatai Rs. 101 and Rohan Rs.11 to the school. How many rupees did they donated altogether?  
A) 412 B) 692 C) 512 D) 612

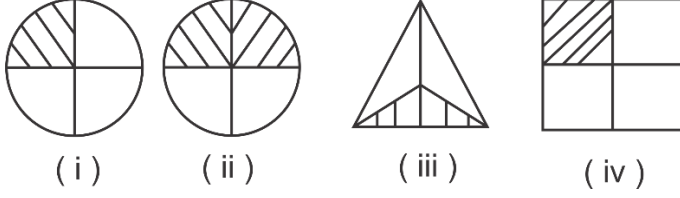
19. एका टी शर्टची किंमत ८५ रु. आहे तर १० टी शर्टची किंमत किती?

- A) ८५० रु.                      B) ९०० रु.                      C) १००० रु.                      D) १५०० रु.

A T-shirt cost Rs.85, find the cost of 10 such T-shirts?

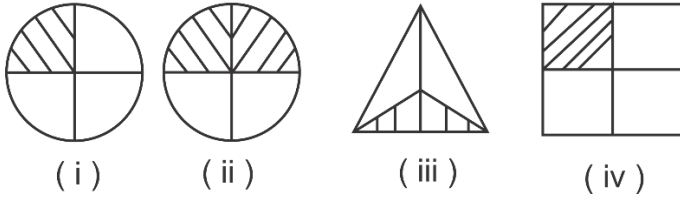
- A) Rs.850                      B) Rs.900                      C) Rs.1000                      D) Rs.1500

20. खालील रेखाटलेले कोणते दोन अपूर्णाक सारखे आहेत?



- A) (i) आणि (iii)                      B) (i) आणि (iv)                      C) (ii) आणि (iv)                      D) (iii) आणि (iv)

Which two shaded fractions are same?



- A) (i) and (iii)                      B) (i) and (iv)                      C) (ii) and (iv)                      D) (iii) and (iv)

21. जर उद्या गुरुवार असेल तर काल कोणता वार होता?

- A) गुरुवार                      B) मंगळवार                      C) रविवार                      D) शुक्रवार

If tomorrow will be Thursday, then what day was yesterday?

- A) Thursday                      B) Tuesday                      C) Sunday                      D) Friday

22. तीन अंकी सर्वात मोठी संख्या कोणती ?

- A) ९९०                      B) ९००                      C) ९९९                      D) ९०९

Which is the greatest three digit number?

- A) 990                      B) 900                      C) 999                      D) 909

23. खालील भागाकार करा व अचूक उत्तराचा पर्याय निवडा.

$$६२४ \div ६ = ?$$

- A) १०४                      B) १०२                      C) १०३                      D) ९९

Divide with the help of tables and select the correct answer option

$$624 \div 6 = ?$$

- A) 104                      B) 102                      C) 103                      D) 99

24. खालील प्रश्न सोडवा व अचूक उत्तर पर्याय निवडा.

५ रुपये ७५ पैसे - २ रुपये २५ पैसे = ?

- A) ३ रु ७५ पैसे  
B) ३ रु २५ पैसे  
C) २ रु ५० पैसे  
D) ३ रु ५० पैसे

Solve the following question and select the correct answer option.

5 rupees 75 paise – 2 rupees 25 paise = ?

- A) Rs 3.75  
B) Rs. 3.25  
C) Rs.2.50  
D) Rs.3.50

25. ४००० मिटर = \_\_\_\_\_ किमी.

- A) ४  
B) ४००  
C) ४४००  
D) ४०  
4000 m = \_\_\_\_\_ km.  
A) 4  
B) 400  
C) 4400  
D) 40

26. एका दिवसात किती तास असतात.

- A) २४  
B) १२  
C) ६  
D) ८  
How many hours does one day have?  
A) 24  
B) 12  
C) 6  
D) 8

27. खालीलपैकी कोणत्या संख्येस ६ ने पूर्ण भाग जातो?

- A) २५७  
B) १४८  
C) ८१६  
D) ४१६  
Which of the following is divisible by 6?  
A) 257  
B) 148  
C) 816  
D) 416

28. खालीलपैकी विषम संख्या ओळखा.

- A) ४४१  
B) २४६  
C) ३०२  
D) ३१०  
Which one of the following is odd number?  
A) 441  
B) 246  
C) 302  
D) 310

29. खालीलपैकी प्रश्नचिन्हाच्या जागी येणारी संख्या कोणती?

0 X ३४५५ = १००० X ?

- A) 0  
B) ४८५८९  
C) ५  
D) यापैकी नाही

Which of the following will replace the question mark from

0 X 3455 = 1000 X ?

- A) 0  
B) 48589  
C) 5  
D) none of these

30. १२०५ रुपये ५ जनांना समान वाटले तर प्रत्येकाला किती रुपये मिळतील?

- A) २४१ रु.  
B) २४२ रु.  
C) २५१ रु.  
D) २११ रु.

How much amount will each get if Rs.1205 is distributed equally among 5 people?

- A) Rs.241  
B) Rs.242  
C) Rs.251  
D) Rs. 211

31. सोडवा

$$765 + 65 + 70 - 45 - 35$$

- A) 780                      B) 870                      C) 990                      D) 820

Simplify

$$765 + 65 + 70 - 45 - 35$$

- A) 780                      B) 870                      C) 990                      D) 820

32. \_\_\_\_\_ चा दुध हा प्रमुख स्रोत आहे.


- A) प्रोटीन                      B) कॅल्शियम                      C) व्हिटामिन्स                      D) वरीलपैकी सर्व

Milk is a rich source of \_\_\_\_\_ .

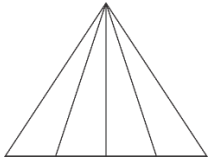
- A) Protein                      B) Calcium                      C) Vitamins                      D) All of these

33. खालीलपैकी सर्वात लहान रेषा कोणती?

Which line is the shortest?

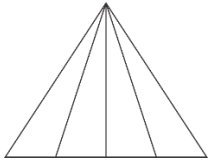


34. खालील आकृतीत एकूण किती त्रिकोण आहेत.



- A) 4                      B) 7                      C) 9                      D) 10

How many triangles are there in the figure?



- A) 5                      B) 8                      C) 9                      D) 10

35. 'तबेला' कोणत्या प्राण्याचा निवारा आहे.  
 A) गाढव B) घोडा C) बैल D) कुत्रा  
 Whose shelter is the stable?  
 A) Donky B) Horse C) Ox D) Dog
36. नखे वाढल्यास त्यात \_\_\_\_\_ साठते?  
 A) साबण B) पाणी C) पेस्ट D) घाण  
 If nails grow long, \_\_\_\_\_ collects under them.  
 A) Soap B) Water C) Paste D) Dirt
37. आकृती कायम राहणाऱ्या पदार्थांना \_\_\_\_\_ म्हणतात.  
 A) स्थायू B) द्रव C) वायू D) यापैकी नाही  
 Substances that maintain their shape all the time are called \_\_\_\_\_ Substances  
 A) Solid B) Liquid C) Gases D) none of these
38. स्वयंपाकासाठी खालीलपैकी कोणते तेल वापरले जाते?  
 A) मोहरीचे तेल B) खोबरा तेल  
 C) शेंगदाणा तेल D) वरील सर्व  
 Which of the following oils can be used for cooking?  
 A) Mustard Oil B) Coconut Oil  
 C) Groundnut Oil D) All of these
39. पक्षांना पंखाचे होणारे फायदे  
 १) उडण्यास मदत होते  
 २) शरीर उष्ण राहते  
 ३) पक्षी सुंदर दिसतात  
 ४) शरीराचे रक्षण होते  
 A) फक्त १ B) १ व २ C) १, २, आणि ३ D) १, २, ३ व ४  
 The feathers of a bird  
 1) Help it to fly  
 2) Keep it warm  
 3) Make it attractive  
 4) Protect the body  
 A) 1 Only B) 1 and 2 C) 1, 2 and 3 D) 1, 2,3 and 4
40. पावसात आकाशात काय चमकते?  
 A) विजा B) फटाके C) चांदण्या D) वरील सर्व  
 During the rains, \_\_\_\_\_ flashes in the sky.  
 A) Lighting B) fireworks C) stars D) All of these

41. अस्वस्थ परिसरामुळे \_\_\_\_\_ प्रदूषित होते.  
A) अन्न B) पाणी C) हवा D) वरील सर्व  
Due to unclean surrounding \_\_\_\_\_ get polluted.  
A) food B) water C) Air D) all of these
42. खालीलपैकी सूर्यमालेतील सर्वात मोठा ग्रह कोणता?  
A) मंगळ B) गुरु C) पृथ्वी D) शनी  
Which one of the following is the biggest planet of our solar system?  
A) Mars B) Jupiter C) Earth D) Saturn
43. एखादी व्यक्ती जखमी झाली तर खालील पैकी कोणाला बोलवाल.  
A) पोलीस B) दुकानदार C) डॉक्टर D) शिक्षक  
If someone gets injured, which one of the following persons must be called?  
A) Policeman B) Shopkeeper C) Doctor D) Teachers
44. खालीलपैकी संपर्काचे साधन कोणते?  
१) टेलीफोन २) मोबाईल ३) बस ४) यापैकी नाही  
A) १ आणि २ B) १ आणि ३ C) १, २ आणि ३ D) ४  
Which one of the following is a mean of communication?  
1) Telephone 2) Mobile 3) Bus 4) none of these  
A) 1 and 2 B) 1 and 3 C) 1, 2 and 3 D) 4
45. पदार्थाच्या एकूण अवस्था आहेत?  
A) २ B) ४ C) ३ D) १  
There are \_\_\_\_\_ states of matter?  
A) 2 B) 4 C) 3 D) 1
46. \_\_\_\_\_ अदृश्य आहे.  
A) दुध B) पाणी C) रॉकेल D) हवा  
\_\_\_\_\_ is invisible.  
A) Milk B) Water C) Kerosene D) Air
47. खालीलपैकी पर्यावरणाचा घटक कोणता?  
A) हवा B) प्राणी C) वनस्पती D) वरीलपैकी सर्व  
Which one of the following is a part of the environment?  
A) Air B) Animal C) Plants D) All of these
48. पत्र पाठविण्यासाठी तुम्ही कोठे जाल?  
A) पोलीस ठाणे B) दवाखाना C) शाळा D) पोस्ट ऑफिस  
Where will you go if you have to post letter?  
A) Police Station B) Hospital C) School D) Post Office



49. पान हा \_\_\_\_\_ चा अवयव आहे.  
 A) वनस्पतीचा B) पक्ष्यांचा C) प्राण्यांचा D) जमिनीचा  
 Leaf is an organ of:  
 A) Plants B) Birds C) Animals D) Land
50. खालीलपैकी वाहतुकीचे साधन कोणते?  
 A) विमान B) बस C) मेट्रो D) वरील सर्व  
 Which one of the following is a means of transportation?  
 A) Aeroplane B) Bus C) Metro D) All of these
51. खालीलपैकी कोणता सजीव उडू शकतो?  
 A) कावळा B) गिधाड C) चिमणी D) वरीलपैकी सर्व  
 Which one of the following living things can fly?  
 A) Crow B) Vulture C) sparrow D) all of these
52. खालीलपैकी कोणत्या देशात नदीकाठची संस्कृती निर्माण झालेली नाही?  
 A) चीन B) इजिप्त C) जपान D) इराक  
 \_\_\_\_\_ Civilization is not developed on the banks of rivers?  
 A) China B) Egypt C) Japan D) Iraq
53. पापड तयार करणे हा कोणत्या प्रकारचा उद्योग आहे?  
 A) मोठे उद्योग B) लघू उद्योग C) कुटीरोद्योग D) यापैकी नाही  
 Making papad is a \_\_\_\_\_ industry.  
 A) Large Scale B) Small scale C) Cottage D) none of these
54. चाकाचा शोध \_\_\_\_\_ शेवटी लावला.  
 A) अश्मयुग B) धातूयुग C) पुराणाश्मयुग D) कलियुग  
 The wheel had been invented toward the end of the \_\_\_\_\_.  
 A) Stone age B) Metal age C) Ancient age D) Modern age
55. बर्फाळ प्रदेशात घसरगाडी ओढण्यासाठी माणसाने कोणत्या प्राण्याचा उपयोग केला?  
 A) घोडा B) उंट C) रेनडिअर D) बैल  
 In snowy regions, man used \_\_\_\_\_ to pull the sledges.  
 A) Horse B) Camel C) Reindeer D) Bullock
56. शिक्षणामुळे आपल्याला ज्ञानाबरोबर \_\_\_\_\_ मिळतो.  
 A) नौकरी B) आनंद C) निवारा D) माहिती  
 Education gives us knowledge and \_\_\_\_\_.  
 A) Job B) Pleasure C) Shelter D) Information

57. ग्रामपंचायतीला मदत करण्यासाठी \_\_\_\_\_ असतो.  
 A) आयुक्त B) सरपंच C) मुख्याधिकारी D) ग्रामसेवक  
 \_\_\_\_\_ helps the Gram Panchayat  
 A) Commissioner B) Sarpanch C) Chief Officer D) Gramsevak

58. वेगाळा घटक ओळखा.  
 A) हिरवा B) आकाश C) पांढरा D) पिवळा  
 Odd man out:  
 A) Green B) Sky C) white D) yellow

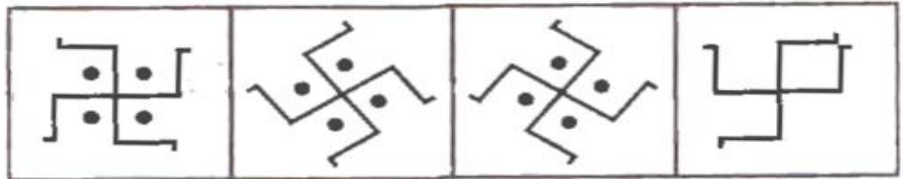
59. खालील संख्यांचा क्रम लक्षात घेऊन प्रश्नचिन्हाच्या जागी येणारी संख्या निवडा.  
 १०, ८, २०, १६, ?  
 A) २४ B) ३० C) ४० D) ३२  
 Observe the sequence and find out the correct answer.  
 10, 8, 20, 16, ?  
 A) 24 B) 30 C) 40 D) 32

60. खालील प्रश्न आकृतीची आरशातील प्रतिमा कशी असेल?  
 ते उत्तर पर्यायातून शोधा.

प्रश्न आकृती



उत्तर आकृती



A)

B)

C)

D)

Find the mirror image of the question figure from the answer figures

Question Figure



Answer Figure



A)

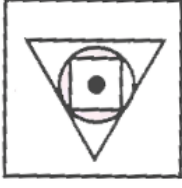
B)

C)

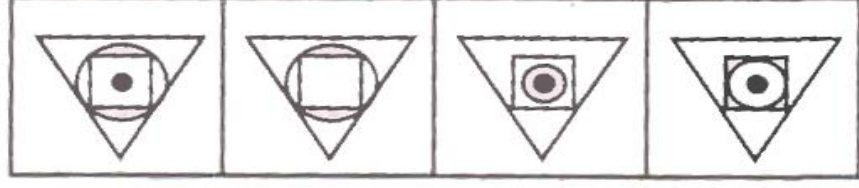
D)

61. दिलेल्या प्रश्न आकृतीशी तंतोतंत जुळणारी आकृती उत्तर आकृत्यांमधून निवडा.

प्रश्न आकृती



उत्तर आकृती



A)

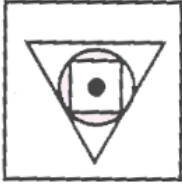
B)

C)

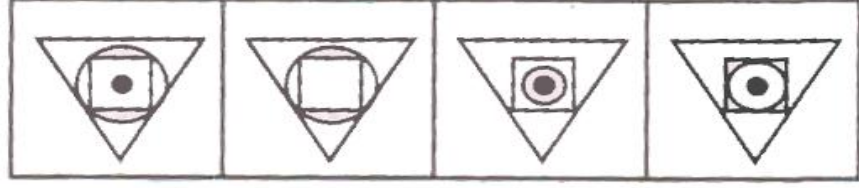
D)

In the following one figure is given as a question figure and you have to find the correct identical figure from the given alternatives.

Question Figure



Answer Figure



A)

B)

C)

D)

62. खालील प्रश्नातील चुकीचे पद ओळखा.

२८, २३, १७, १३, ८

A) २८

B) १३

C) १७

D) ८

Identify the wrong term in the given series.

28, 23, 17, 13, 8

A) 28

B) 13

C) 17

D) 8

63. पुढील संख्यामालेतील प्रश्नचिन्हाच्या जागी कोणती संख्या येईल ते पर्यायी उत्तरांतून ओळखा.

७ १० १३ १६ ?

A) १९

B) १२

C) १८

D) २०

Find the number that fits in the given group of numbers?

7 10 13 16 ?

A) 19

B) 12

C) 18

D) 20

64. खाली दिलेल्या गटात बसणारे पद लिहा.

मांजर , कुत्रा , गाय , ?

A) वाघ

B) म्हैस

C) सिंह

D) लांडगा

Find the word that belong to the following groups

Cat, Dog, Cow, ?

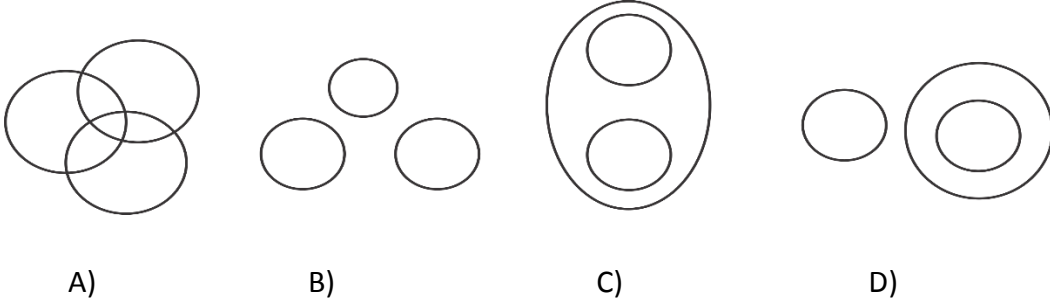
A) Tiger

B) Buffalo

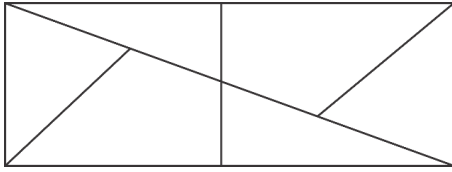
C) Lion

D) Wolf

65. सूर्य, ग्रह, पृथ्वी हा घटकसंच खालीलपैकी कोणत्या वेन आकृतीने अचूक दर्शवता येईल?  
Which figure will represent the set of objects?  
Sun, Planet, Earth ?

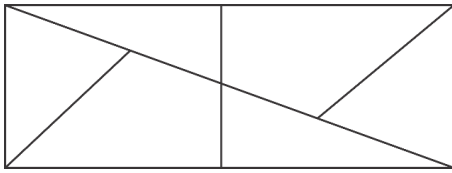


66. खालील आकृतीतील त्रिकोणाची संख्या किती?



- A) ७ B) १० C) ८ D) ७

How many triangles are in the following figure?



- A) 7 B) 10 C) 8 D) 7

67.  $६३४५ \div ४$  यातील बाकी किती येईल?

- A) 0 B) ५ C) ४ D) १

$6345 \div 4$  find the remainder?

- A) 0 B) 5 C) 4 D) 1

68. खालील प्रश्नातील वेगळा शब्द ओळखा.

- A) डोळे B) हात C) जिभ D) कान

Find the odd man out

- A) Eyes B) Hand C) Tongue D) Ear

69. प्रश्नचिन्हाच्या जागी कोणती संख्या येईल.

५	६	७
१५	?	३५
६०	१२०	२१०

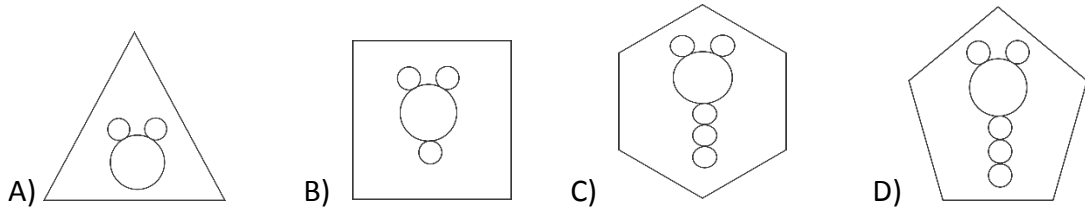
- A) १०                      B) १२                      C) १८                      D) २४

Which of the following numbers will replace the question mark in the box.

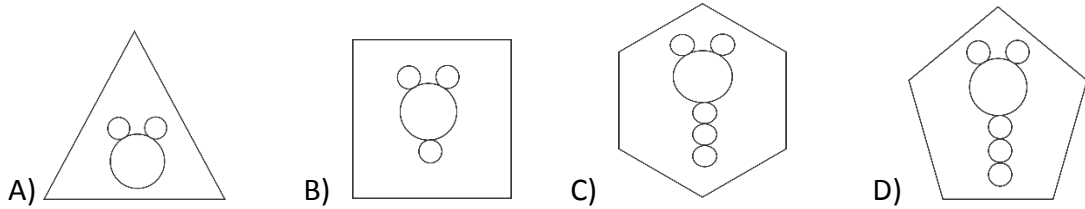
5	6	7
15	?	35
60	120	210

- A) 10                      B) 12                      C) 18                      D) 24

70. विसंगत आकृती ओळखा



Find the odd man out.



71. सर्वात मोठी चार अंकी संख्या कोणती?

- A) ११११                      B) ८८८८                      C) ९९९९                      D) ९९९८

Largest four digit number is \_\_\_\_\_

- A) 1111                      B) 8888                      C) 9999                      D) 9998

72. सोन्याला तांबे, तांब्याला पितळ, पितळाला लोखंड, लोखंडाला चांदी, चांदीला अल्युमिनियम म्हटले तर सर्वात महाग धातू कोणता?

- A) सोने                      B) तांबे                      C) चांदी                      D) अल्युमिनियम

If gold is called copper, copper as brass, brass as iron, iron as silver and silver as aluminum, then Which metal is the costliest?

- A) Gold                      B) Copper                      C) Silver                      D) Aluminum

73. एका सांकेतिक भाषेत APT हा शब्द  $\triangle \bigcirc \square$  असा लिहतात तर  $\bigcirc \triangle \square$  म्हणजे कोणता शब्द?  
 A) TAP B) PAT C) APT D) ATT
- In a certain code language the word APT is written as  $\triangle \bigcirc \square$  then word does  $\bigcirc \triangle \square$  Symbolise?  
 A) TAP B) PAT C) APT D) ATT
74. पहिल्या पदाचा दुसऱ्या पदाशी जसा संबंध आहे, तसाच संबंध तिसऱ्या पदाचा चौथ्या पदाशी आहे. यावरून प्रश्नचिन्हाच्या जागी येणारा योग्य पर्याय शोधा.  
 तांदूळ : किलोग्रॅम :: पाणी : ?  
 A) ग्रॅम B) मिटर C) लीटर D) सें.मी.
- The relation of 4<sup>th</sup> term to the third term is similar to the relation of the 2<sup>nd</sup> term to the first. Therefore search for the right alternative to the 4<sup>th</sup> term  
 Rice : Kilogram :: Water : ?  
 A) Gram B) Meter C) liter D) cm
75. एका रांगेत श्रेयश बरोबर मध्यभागी उभा असून त्याचा क्रमांक १३ वा आहे. तर रांगेत एकूण किती मुले आहेत?  
 A) २२ B) २३ C) २४ D) २५
- Shreyash is standing at the central place in a row and his order in the row is 13. How many boys are there in the row?  
 A) 22 B) 23 C) 24 D) 25
76. अंधान्या रात्री आकशात अनेक \_\_\_\_\_ असतात.  
 A) चंद्र B) ग्रह C) उपग्रह D) चांदण्या
- Several \_\_\_\_\_ are seen in the sky during a dark night.  
 A) moon B) Planets C) Satellites D) Stars
77. महाराष्ट्राचे मुख्यमंत्री कोण आहेत?  
 A) वसंत पुरके B) अजित पवार  
 C) अशोक चव्हाण D) देवेंद्र फडणवीस
- Who is the chief minister of Maharashtra?  
 A) Vasant Purke B) Ajit pawar  
 C) Ashok Chavan D) Devendra Fadanvis
78. महाराष्ट्राचे शिक्षणमंत्री कोण आहेत?  
 A) नारायण राणे B) विनोद तावडे  
 C) पंकजा मुंडे D) एकनाथ खडसे
- Who is the education minister of Maharashtra?  
 A) Narayan Rane B) Vinod Tavde  
 C) Pankaja Mundhe D) Eknath khadse

79. महाराष्ट्रात एकूण किती जिल्हे आहेत?  
A) ३४ B) ३५ C) ३६ D) ३२  
How many districts are there in Maharashtra state?  
A) 34 B) 35 C) 36 D) 32
80. भारताची संसद कोणत्या राज्यात आहे?  
A) मुंबई B) जयपूर C) दिल्ली D) पुणे  
India's Parliament house is situated in \_\_\_\_\_  
A) Mumbai B) Jaipur C) Delhi D) Pune
81. खालीलपैकी कोणत्या देशाला चांदीचा देश असे देखील म्हटले जाते?  
A) झांबिया B) भारत C) आस्ट्रेलिया D) जपान  
Which country is also called as Copper country?  
A) Zambia B) India C) Australia D) Japan
82. दोन आठवड्यांचे दिवस किती होतात?  
A) २० B) १६ C) १४ D) ६०  
How many days make two weeks?  
A) 20 B) 16 C) 14 D) 60
83. महिन्याच्या नावाचे चुकीचे स्पेलिंग निवडा.  
Choose the wrong spelling of the name of the month?  
A) August B) March C) January D) May
84. एप्रिल महिन्यात किती दिवस येतात?  
A) ३० B) २८ C) २९ D) ३१  
How many days come in a month April?  
A) 30 B) 28 C) 29 D) 31
85. मी पाण्याशिवाय राहू शकत नाही. मला कल्ले असतात. पाणी माझे घर आहे. मी कोण आहे?  
A) साप B) नारळ C) बेडूक D) मासा  
I cannot live without water. I have fins. Water is my home. Who am I?  
A) Snake B) Coconut C) Frog D) Fish
86. खालीलपैकी कोणती अक्षरे वर्णानुक्रमे आहेत.  
Which of the following letters are in correct alphabetical order.  
A) uvwt B) klmn C) nopm D) cdea

87. दिलेल्या पर्यायातून चुकीची जोडी निवडा.

- A) पोपट - हिरवा B) गाजर - पिवळा  
C) टोमॅटो - लाल D) मुळा - पांढरा

Choose the incorrect pair from given options.

- A) Parrot – Green B) Carrot – Yellow  
C) Tomato - Red D) Radish – White

88. सायना नेहवाल हि खेळाडू कोणत्या खेळाशी संबंधित आहे.

- A) विम्बल्डन B) टेनिस C) कबड्डी D) बॅडमिंटन

With which game the player Saina Nehwal is related?

- A) Wimbledon B) Tennis C) kabaddi D) Badminton

89. भारतातील पहिले नियोजनबद्ध वसलेले शहर कोणते?

- A) मुंबई B) दिल्ली C) चंदीगड D) जयपूर

Which of the following cities is the first planned city in india?

- A) Mumbai B) Delhi C) Chandigarh D) jaypur

90. कर्मवीर भाऊराव पाटलानी खालीलपैकी कोणती संस्था स्थापन केली?

- A) रयत शिक्षण संस्था B) शिवाजी शिक्षण संस्था  
C) जिजामाता शिक्षण संस्था D) आधार शिक्षण संस्था

Karmaveer Bhaurav Patil founded \_\_\_\_\_

- A) Rayat Shikshan Sanstha B) Shivaji Shikshan Sanshta  
C) Jijamata Shikshan Sanshta D) Addhar Shikshan Sanshta

91. महाराष्ट्रातील सर्वात उंच पर्वत शिखर कोणते?

- A) माथेरान B) महाबळेश्वर C) महादेव D) कळसुबाई

Which is the highest mountain peak of Maharashtra?

- A) Matheran B) Mahabaleshwar C) Mahadev D) Kalsubai

92. भारताचे पहिले गृहमंत्री कोण होते?

- A) डॉ. बाबासाहेब आंबेडकर B) डॉ.पंजाबराव देशमुख  
C) सरदार वल्लभभाई पटेल D) एम.के.गांधी

Who was the first home minister of India?

- A) Dr. Babasaheb Ambedkar B) Dr. Panjabrao Deshmukh  
C) Sardar Vallabhbbhai Patel D) M.K. Gandhi

93. भारतातील अणुउर्जा केंद्र कोणते?

- A) हंपी B) तारापूर C) बेलापूर D) मुंबई

Which is India's first nuclear center?

- A) Hampi B) Tarapur C) Belapur D) Mumbai



94. भारताचे मिसाईल मॅन म्हणून कोणाला ओळखले जाते?  
 A) रतन टाटा B) नरेंद्र मोदी  
 C) अमीर खान D) डॉ.ए.पी.जे. अब्दुल कलाम  
 Who is known as missile man of India?  
 A) Ratan Tata B) Narendra Modi  
 C) Amir khan D) Dr. A.P.J. Abdul Kalam
95. जिम्नॅस्टिक हा एक \_\_\_\_\_ आहे.  
 A) खेळ B) अवयव C) प्राणी D) रोग  
 Gymnastic is a \_\_\_\_\_  
 A) Sport B) Organ C) Animal D) Disease
96. खालीलपैकी कोणत्या प्राण्याला आठ पाय असतात.  
 A) मुंगी B) फुलपाखरू C) डास D) कोळी  
 Which one of the following animals have 8 legs?  
 A) Ant B) Butterfly C) Mosquitoes D) Spider
97. खालीलपैकी पाण्यात राहणारा प्राणी कोणता?  
 A) वाघ B) हत्ती C) व्हेल (देवमासा) D) उंट  
 Which one of the following is an aquatic animal ?  
 A) Tiger B) Elephant C) Whale D) Camel
98. शिवाजी महाराजांचा राज्याभिषेक कधी झाला?  
 A) १६७४ B) १६८० C) १६७० D) १८८४  
 Shivaji Maharaj was crowned in the year?  
 A) 1674 B) 1680 C) 1670 D) 1884
99. जगातील सर्वात मोठा पक्षी कोणता?  
 A) शहामृग B) पानकावळा C) गरुड D) घार  
 Which is the biggest bird in the world?  
 A) Ostrich B) Kingfisher C) Eagle D) Black kite
100. जगातील सर्वात मोठा खंड कोणता?  
 A) आफ्रिका B) अमेरिका C) आशिया D) आस्ट्रेलिया  
 Which is the biggest continent in the world?  
 A) Africa B) America C) Asia D) Australia