

प्रश्नपुस्तिका पर्यवेक्षकांनी सांगितल्याशिवाय उघडू नये...

Do not open this booklet until asked to do so...

RATIONALIST TALENT SEARCH EXAM 2016

RTSE

Question Booklet

STD : V

वर्ग: ५ वा

Roll No.

--	--	--	--	--	--	--	--	--	--

Date of Examination : 07 February 2016 Sunday

Time : 10.00 AM to 11.40 AM

परीक्षार्थींसाठी सुचना / Guidelines for the Candidate

1. आपल्याच नावाची व परिक्षा क्रमांकाची उत्तर पत्रिका मिळाल्याची खात्री करून घ्यावी.
Check to make sure that you have received the appropriate answer sheet of your name and roll number.
2. परिक्षा सुरु होण्यापूर्वी विद्यार्थ्यांना त्यांच्या संपूर्ण माहितीची खात्री करण्यासाठी 30 मिनिटे अधिक वेळ देण्यात येईल.
You will get additional 30 minutes to check and make sure about the information about yourself on the Answer Sheet before the start of the exam.
3. सदर प्रश्नपुस्तिकेमध्ये एकूण 100 प्रश्न असून प्रत्येक प्रश्नासाठी 2 गुण आहेत.
This question booklet contains 100 questions each question carries 2 marks.
4. सर्व प्रश्न सोडविणे आवश्यक आहे. चुकीच्या उत्तराबद्दल मिळालेल्या गुणातून कुठल्याही प्रकारचे गुण वजा केले जाणार नाहीत.
All questions are compulsory. There is no negative marking.
5. आपल्याच वर्गाची प्रश्नपुस्तिका मिळाल्याची खात्री करून घ्यावी.
Check to make sure that you have received the appropriate test booklet for your standard.
6. पर्यायामध्ये केवळ एकच उत्तर बरोबर आहे. बरोबर उत्तरासाठी एकच पर्याय निवडावा.
There is only one correct answer. Choose only one option for an answer.
7. उत्तराचा पर्याय रंगविण्यासाठी केवळ काळा/ निळा रंगाचा बॉलपेनच वापरावा.
To mark your choice of answers by darkening the circles in the Answer Sheet, use a **Blue/Black Ball, Pen only. Eg.**

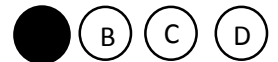
Q. x : - Fill in the blanks.

My father went..... To buy some milk.

a) there b) their c) They're d) here

As the correct answer is option a) you must darken the circle corresponding Q. x

To option a) in the Answer Sheet



8. परिक्षा संपल्यावर तुमची उत्तरपत्रिका पर्यवेक्षकाकडे परत करावी.
Return the Answer Sheet to the invigilator at the end of the exam.
9. आपल्या परिक्षा क्रमांक प्रश्नपुस्तिकेवर सुध्दा लिहावा व सदर प्रश्नपुस्तिका परिक्षा कालावधीनंतर आपल्या सोबत न्यावी.
Write your Roll No. on the Question Paper too and take it home for future reference.

Visit www.rtsexam.com for Answer key after 8 days

1. 'पर्यावरण' शब्दाचा अर्थ आहे.
A) वनस्पती B) परिस्थिती C) सुखदायक D) भवताल
2. हत्ती हा _____ प्राणी आहे.
A) छोटासा B) पांढरा C) मारकुटा D) अवाढव्य
3. 'भाळ' या शब्दाचा समानार्थी शब्द निवडा.
A) भाला B) कपाळ C) माया D) कपाळमोक्ष
4. खाली दिलेल्या अर्थासाठी कोणता आलंकारिक शब्द वापरा.
खूप आनंदाचा दिवस -
A) सोन्याचा दिवस B) सणाचा दिवस
C) समारंभाचा दिवस D) सुखी दिवस
5. खालीलपैकी अशुद्ध शब्द ओळखा.
A) लक्ष्य B) जिवंत C) घुंगरू D) कुटुंब
6. 'निद्रिस्त' या शब्दाचा विरुद्धार्थी शब्द निवडा.
A) जागृत B) जागृती C) जागरण D) जागर
7. खालील वाक्यप्रचाराचा अर्थ निवडा.
देहभान हरवणे
A) देह हरविणे B) बेपत्ता होणे
C) भान हरविणे D) स्वतःला विसरून जाणे
8. Fill in the blanks with appropriate preposition.
Anvay killed two birds _____ one stone.
A) By B) in C) with D) from
9. Choose the correct antonym of the word -
knowledge.
A) Senior B) Ignorance C) Industrious D) Feminine
10. Fill in the blanks with the most suitable conjunction.
My grandmother enjoys good health _____ she is very old.
A) Although B) Since C) though D) as
11. Fill in the blanks with the most suitable article.
I need _____ onion and _____ tomato for salad.
A) the, the B) an, a C) an, the D) the, a

12. Mark the correct adjective of the given options.
A) Cowardly B) Belly C) Apply D) Beautiful
13. Fill in the blanks with suitable verb form from the options.
The sun is shining and the birds _____ what a beautiful day!
A) are lending B) are putting C) are singing D) are standing
14. Choose the wrongly spelt word from the options:
A) Station B) Machine C) Skeleton D) Diarhea
15. Choose the correct collective noun to fill the blank.
A _____ of bees.
A) hive B) herd C) bunch D) shoal
16. सर्व तारे _____ फिरताना दिसतात.
A) पूर्व-पश्चिम B) पश्चिम-पूर्व
C) उत्तर-दक्षिण D) दक्षिण-उत्तर
All stars appear to move from -
A) East to West B) West to East
C) North to South D) South to North
17. “आपल्या सूर्यमालेत सूर्य हा एकमेव तारा आहे”
हे विधान _____ आहे.
A) सत्य B) असत्य C) अंशतः खरे D) यापैकी नाही
“Sun is the only star in our Solar System” The above statement is
A) True B) False C) Partially true D) none of these
18. सूर्यमालेत एकूण किती ग्रह आहेत?
A) 2 B) 4 C) 6 D) 8
How many planets are there in our Solar System?
A) 2 B) 4 C) 6 D) 8
19. ‘वनस्पतीचे स्वयंपाक घर’ असे वनस्पतीच्या कोणत्या अवयवला म्हणतात?
A) मुळ B) देठ C) पाने D) फुल
Which part in the plant is called as “Kitchen of the plants”.
A) Root B) Stem C) Leaves D) Flower
20. जागतिक तापमानवाढ खालीलपैकी कशाचा परिणाम आहे?
A) वायु प्रदुषण B) जल प्रदुषण
C) मृदा प्रदुषण D) ध्वनी प्रदुषण
Global warming is the result of which one of the following.
A) Air Pollution B) Water Pollution
C) Soil Pollution D) Noise Pollution

21. खालीलपैकी कोणती नैसर्गिक साधनसंपत्ती आहे?
 A) पाणी B) लाकूड C) खनिज D) वरील सर्व
 Which one of the following is the natural resource?
 A) Water B) Wood C) Minerals D) all of these
22. खालीलपैकी औषधी वनस्पती कोणती?
 A) लिंबू B) गुलाब C) निंबू D) गवत
 Which one of the following is a herb?
 A) Neem B) Rose C) Lemon D) Grass
23. _____ शरीराच्या सर्व कार्यांचे नियंत्रण करतो.
 A) डोके B) मेंदू C) हृदय D) माणूस
 Which of the following controls our body.
 A) Head B) Brain C) Heart D) Man
24. खालीलपैकी 'क' जिवनसत्त्वाचा प्रमुख स्रोत कोणता?
 A) मांस B) आवळा C) दुध D) वरील सर्व
 Which one of the following is the rich source of vitamin C ?
 A) Meat B) Amla C) Milk D) All of these
25. खालीलपैकी वायुचे उदाहरण कोणते?
 A) धूर B) दुध C) डिझल D) वरील सर्व
 Which one of the following is an example of gas?
 A) Smoke B) Milk C) Diesel D) All of these
26. दुष्काळाची कारणे कोणती?
 A) कमी पर्जन्य B) तापमानातील वाढ
 C) कोरडे वारे D) वरील सर्व
 Which one of the following are causes of drought?
 A) Less Rainfall B) High Temperature
 C) Dry Winds D) all of these
27. खालीलपैकी लांबी मोजण्याचे सर्वात लहान एकक कोणते?
 A) सेंटीमीटर(सेंमी) B) मिलीमीटर(मिमी)
 C) किलोमीटर (किमी) D) मिटर (मि)
 What is the smallest measurement unit of the length?
 A) centimeter (cm) B) millimeter meter (mm)
 C) kilometer (Km) D) meter (m)

28. खालीलपैकी नगदी पिक कोणते?

- A) चहा B) कापूस C) ऊस D) वरील सर्व

Which one of the following is a cash crop?

- A) Tea B) Cotton C) Sugarcane D) all of these

29. प्रदुषित _____ मुळे हागवण लागते.

- A) हवा B) पाणी C) माती D) यापैकी नाही

Dysentery is caused by polluted _____

- A) Air B) Water C) Soil D) none of these

30. खालीलपैकी सर्वाधिक प्रथिने कोणत्या पदार्थातून मिळतात?

- A) सोयाबीन B) तांदुळ C) चिप्स D) दोसा

Which one of the following is a rich source of proteins?

- A) Soyabean B) Rice C) Chips D) Dosa

31. खालीलपैकी सममूल्य अपूर्णाकांची जोडी कोणती

- A) $\frac{4}{6}$ आणि $\frac{1}{3}$ B) $\frac{5}{9}$ आणि $\frac{4}{9}$ C) $\frac{2}{3}$ आणि $\frac{3}{9}$ D) $\frac{1}{3}$ आणि $\frac{3}{9}$

Which one of the following is the pair of equivalent fraction?

- A) $\frac{4}{6}$ And $\frac{1}{3}$ B) $\frac{5}{9}$ and $\frac{4}{9}$ C) $\frac{2}{3}$ and $\frac{3}{9}$ D) $\frac{1}{3}$ and $\frac{3}{9}$

32. २५.७ अंश-छेद रूपात कसे लिहाल?

- A) $\frac{257}{1000}$ B) $\frac{257}{10}$ C) $\frac{257}{100}$ D) $\frac{257}{10000}$

Convert the decimal 25.7 into fraction?

- A) $\frac{257}{1000}$ B) $\frac{257}{10}$ C) $\frac{257}{100}$ D) $\frac{257}{10000}$

33. जर $A=25.36$ आणि $B=32.31$. तर $2A + B$ ची किंमत किती?

- A) 83.03 B) 81.03 C) 28.31 D) 30.38

$A=25.36$ and $B=32.31$. Find the value of $2A + B$.

- A) 83.03 B) 81.03 C) 28.31 D) 30.38

34. 13, 39 आणि 78 यांच्या लसावि आणि मसावि यातील फरक किती?

- A) 13 B) 39 C) 65 D) 78

Find the difference between L.C.M. and H.C.F. of 13, 39 and 78.

- A) 13 B) 39 C) 65 D) 78

35. जर 28 पेन्सिल ची किंमत 68 रु व 30 पेन ची किंमत 128 रु. आहे तर 6 पेन्सिल व 7 पेनची एकूण किंमत किती?
 A) Rs 44.43 B) Rs 18.75 C) Rs 54.50 D) Rs 46.90

The cost of 28 Pencils is Rs.68 and 30 Pens is Rs.128. Find the cost of 6 Pencils and 7 Pens?
 A) Rs 44.43 B) Rs 18.75 C) Rs 54.50 D) Rs 46.90

36. सोडवा,

$$\left(\frac{34}{7} \times \frac{1}{2} \div \frac{3}{2} \right) - \frac{1}{2} = ?$$

- A) $\frac{42}{47}$ B) $\frac{23}{43}$ C) $\frac{47}{42}$ D) $\frac{3}{4}$

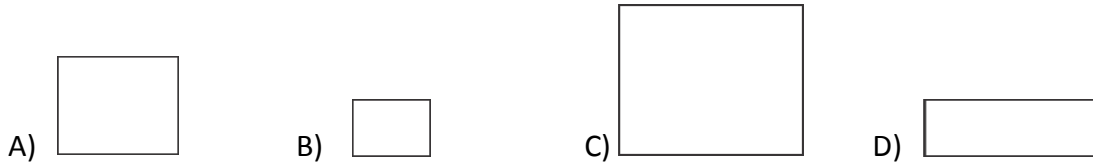
Simplify,

$$\left(\frac{34}{7} \times \frac{1}{2} \div \frac{3}{2} \right) - \frac{1}{2} = ?$$

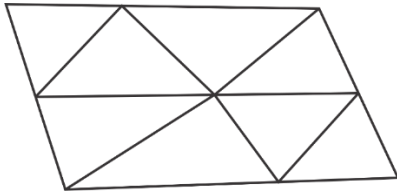
- A) $\frac{42}{47}$ B) $\frac{23}{43}$ C) $\frac{47}{42}$ D) $\frac{3}{4}$

37. खालील सर्वाधिक क्षेत्रफळ कोणाचे?

Which has the greatest area among the following?



38. खालील आकृतीमध्ये त्रिकोणांची संख्या किती?



- A) 8 B) 10 C) 9 D) 11

How many triangles are there in the following figure.

- A) 8 B) 10 C) 9 D) 11

39. 456.5 व 36.32 या दोन संख्या मधील फरक किती?

- A) 420.18 B) 520.18 C) 620.18 D) 791.34

Find the difference between 456.5 and 36.32

- A) 420.18 B) 520.18 C) 620.18 D) 791.34

40. $11.1 + 11.1 + 11.111 + 11.1111 = ?$

- A) 44.4321 B) 44.1111 C) 44.1234 D) 44.4012

41. 246 च्या 14 % म्हणजे?
Calculate, 14% of 246?
A) 34 B) 34.44 C) 35 D) 37
42. अचूक पर्याय निवडा.
A) $1.3749 < 1.0399$ B) $1.7908 < 1.879$
C) $1.526 < 1.2605$ D) $1.463 < 1.3902$
Which is true?
A) $1.3749 < 1.0399$ B) $1.7908 < 1.879$
C) $1.526 < 1.2605$ D) $1.463 < 1.3902$
43. जर 12 लिटर दुधाची किंमत 120 रु. असेल तर 5 लिटर दुधासाठी किती पैसे द्यावे लागतील.
A) 15 रु B) 25 रु C) 50 रु D) यापैकी नाही
If 12 liters of milk costs Rs 120 then what is the cost of 5 liters of milk?
A) Rs 15 B) Rs 25 C) Rs 50 D) none of these
44. खालीलपैकी एका सफरचंदाचे योग्य वजन कोणते?
A) 7 लिटर B) 7 किलोग्रॅम C) 70 ग्रॅम D) 7 सेंमी
Which of these measurement best describes the weight of one apple?
A) 7 liters B) 7 Kilogram C) 70 Gram D) 7 CM
45. कर्नाटकातील _____ भागात सोन्याचा खाणी आहेत.
A) लोणार B) निपाणी C) बेळगाव D) विजापूर
In which part of the Karnataka Gold mines are located?
A) Lonar B) Nipani C) Belgaon D) Vijapur
46. खालीलपैकी कोणते शहर माहिती तंत्रज्ञानाचे केंद्र नाही?
A) बंगळूर B) हैद्राबाद C) पुणे D) चेन्नई
Which one of the following cities is not a information technology center?
A) Bangalore B) Hyderabad C) Pune D) Chennai
47. खुजराहो हे पर्यटन स्थळ _____ मध्ये आहे.
A) महाराष्ट्र B) राजस्थान C) मध्यप्रदेश D) गुजरात
The famous tourist place Khajuraho is located in _____ .
A) Maharashtra B) Rajasthan C) Madhya Pradesh D) Gujrat
48. पृथ्वीचे एकूण किती क्षेत्र वाळवंटाने व्यापलेले आहे?
A) $\frac{1}{10}$ B) $\frac{1}{5}$ C) $\frac{1}{3}$ D) $\frac{1}{6}$
How much of the earth's land surface is desert?
A) $\frac{1}{10}$ B) $\frac{1}{5}$ C) $\frac{1}{3}$ D) $\frac{1}{6}$

49. भारतातील सर्वात जास्त पाउस _____ येथे पडतो.
 A) मौसिनराम B) महाबळेश्वर C) सिमला D) चेरापुंजी
 Which one of the following is the wettest in India?
 A) Mawsynram B) Mahabaleshwar C) Shimla D) Cherrapunji
50. भारताने पहिली अणु चाचणी _____ येथे घेतली.
 A) चंपारण B) पोखरण C) जवाहर सागर D) तारापूर
 India's first nuclear test was conducted in?
 A) Champaran B) Pokhran C) Jawhar Sagar D) Tarapur
51. मध्य रेल्वेचे मुख्यालय कोठे आहे?
 A) मुंबई B) जयपूर C) विजयवाडा D) नागपूर
 The headquarter of the central Railway is at?
 A) Mumbai B) Jaipur C) Vijaywada D) Nagpur
52. आहारातील उर्जेचे प्रमुख स्रोत कोणते?
 A) प्रथिने B) कर्बोदके C) मेद D) जीवनसत्त्वे
 What is the main source of energy in our diet?
 A) Proteins B) Carbohydrates C) fats D) Vitamins
53. भारतातील सर्वात उंच धरण कोणते?
 A) भाक्रा B) मेट्टूर C) कोयना D) नागार्जुन
 Which dam of India is the highest?
 A) Bhakra B) Mettur C) Koyana D) Nagarjun
54. खालीलपैकी कोणते एक वन्यजीव अभयारण्य आहे?
 A) जलदापारा B) गोरुमारा C) कार्बेट D) वरील सर्व
 Which one of the following is a wild life sanctuary?
 A) Jaldapara B) Garumara C) Corbett D) all of these
55. टिस्को प्रकल्प _____ जवळ स्थित आहे.
 A) पाटना B) दरभंगा C) धनाबाद D) टाटानगर
 TISCO plant is located near?
 A) Patna B) Darbhanga C) Dhanabad D) Tatanagar
56. आगगाडीचे डबे बनविण्याचा कारखाना कोठे आहे?
 A) पेराम्बूर B) वाराणसी C) चित्तरंजन D) जमशेदपूर
 Railway coaches are manufactured at?
 A) Perambur B) Varanasi C) Chittaranjan D) Jamshedpur

57. भारतातील पहिली रेल्वे _____ साली सुरु झाली.
 A) 1833 B) 1853 C) 1861 D) 1857
 The first railway line in India?
 A) 1833 B) 1853 C) 1861 D) 1857
58. गदर पार्टीची स्थापना केव्हा व कोठे झाली?
 A) अमेरिका, 1913 B) लंडन, 1917
 C) डेनमार्क, 1921 D) स्कॉटलँड, 1925
 Where and when was the Ghadar Party founded?
 A) America, 1913 B) England, 1917
 C) Denmark, 1921 D) Scotland, 1925
59. बंगालची फाळणी केव्हा झाली?
 A) 1905 B) 1907 C) 1905 D) 1911
 When did the partition of Bengal take place?
 A) 1905 B) 1907 C) 1905 D) 1911
60. भारताचे शेवटचे ब्रिटीश व्हाईसरॉय कोण होते?
 A) लॉर्ड वेवेल B) सेलमेन्ट एटली
 C) लॉर्ड डलहौजी D) लॉर्ड माउंटबेटन
 Who was the last British Viceroy of India?
 A) Lord Wavell B) Clement Atlee
 C) Lord Dalhousie D) Lord Mountbatten
61. सिख धर्माची स्थापना कोणी केली?
 A) गोविंद सिंग B) तुकाराम C) नानक D) हरगोविंद
 Who founded Sikhism?
 A) Govind Singh B) Tukaram C) Nanak D) Hargovind
62. संस्थाने खालसा करण्याची नीती कोणाची होती?
 A) लॉर्ड रिपन B) लॉर्ड डलहौजी C) लॉर्ड बेंटिक D) लॉर्ड कर्जन
 Which governor general is associated with doctrine of lapse?
 A) Lord Ripon B) Lord Dalhousie C) Lord Bentinck D) Lord Curzon
63. दांडी यात्रा कधी सुरु झाली?
 A) 12 मार्च 1930 B) 14 मार्च 1932
 C) 11 मार्च 1930 D) 22 जानेवारी 1932
 The Dandi march was inaugurated on _____
 A) 12 March 1930 B) 14 March 1932
 C) 11 March 1930 D) 22 January 1932

64. ईस्ट इंडिया कंपनीने आपली पहिली व्यापारी वसाहत कोठे वसवली?
 A) कालीकत B) सुरत C) मुंबई D) केरळ
 The East India Company had their first trading post at _____
 A) Calicut B) Surat C) Mumbai D) Keral
65. स्वातंत्र्याचे पहिले युद्ध _____ साली झाले.
 A) 1912 B) 1857 C) 1856 D) 1858
 The First war of Independence took place in the year _____
 A) 1912 B) 1857 C) 1856 D) 1858
66. खालीलपैकी कोणती एक जोडी बरोबर आहे?
 A) कथकली - केरळ B) भरतनाट्यम - ओरिसा
 C) कथक - आंध्रप्रदेश D) कुचीपुडी - तामिळनाडू
 Which one of the following pairs is correctly matched?
 A) Kathakali – Kerala B) Bharatnatyam – Orissa
 C) Katthak – Andhra Pradesh D) Kuchipudi – Tamil Nadu
67. जालियानवाला बाग हत्याकांडास कोण जबाबदार आहे?
 A) जनरल डायर B) लॉर्ड कर्जन C) जनरल लॉर्ड D) यापैकी नाही
 Who is associated with Jallianwala Bagh massacre?
 A) Genral Dyer B) Lord Curzon C) Genral Lord D) none of these
68. भारतातील सर्वात कमी लोकसंख्येचे राज्य कोणते?
 A) अरुणाचल प्रदेश B) सिक्किम C) मिझोराम D) उत्तराखंड
 The least populated state of India is?
 A) Arunachal Pradesh B) Sikkim C) Mizoram D) Uttrakhand
69. खालीलपैकी कोणती व्यक्ती नुकतीच पद्म विभूषण पुरस्काराने सन्मानित करण्यात आली?
 A) अमीर खान B) महेश भट्ट C) दिलिप कुमार D) अजय देवगण
 Who among the following persons has been conferred with the Padma Vibhushan recently?
 A) Amir Khan B) Mahesh bhatt C) Dilip Kumar D) Ajay Devgan
70. भारतातील सर्वाधिक साक्षरतेचे प्रमाण असलेले राज्य कोणते?
 A) तामिळनाडू B) केरळ C) महाराष्ट्र D) मिझोराम
 Which state in India has the Highest literacy rate?
 A) Tamilnadu B) Keral C) Maharashtra D) Mizoram
71. आंतरराष्ट्रीय महिला दिवस कोणता?
 A) 8 मार्च B) 28 एप्रिल C) 9 जून D) 8 मे
 When is International Women's day?
 A) 8 March B) 28 April C) 9 June D) 8 May

72. फेसबुक चे संस्थापक कोण आहेत?
 A) मार्क जुकेरबर्ग B) लॅरी पेज C) माईक जॉन D) मायक्रोसॉफ्ट
 The founder of Facebook is _____
 A) Mark Zuckerberg B) Larry Page C) Mike John D) Microsoft
73. इमेल चे पूर्ण रूप काय आहे?
 A) इलेक्ट्रिक मेल B) इलेक्ट्रॉनिक मेल
 C) इलेक्ट्रोमॅग्नेटिक मेल D) वरील सर्व
 The full form of e-mail is _____
 A) Electric Mail B) Electronic Mail
 C) Electromagnetic Mail D) All of these
74. सन 2016 च्या ऑलंपिक खेळाचे आयोजन कोणत्या देशात होणार आहे?
 A) युनायटेड किंगडम B) ब्राझील C) इटली D) चीन
 Which of the following countries is the host of 2016 Olympic Games?
 A) United Kingdom B) Brazil C) Italy D) China
75. खालीलपैकी कोणता पदार्थ नाही?
 A) पाणी B) लाकूड C) कीटक D) आनंद
 Which one of the following is not a matter?
 A) Water B) Wood C) Insect D) Happiness
76. खालीलपैकी सरपटणारा प्राणी कोणता?
 A) साप B) कोळी C) कासव D) वरील सर्व
 Identify the reptile from the following.
 A) Snake B) Spider C) Tortoise D) All of these
77. _____ हा भारतातील क्षेत्रफळाने सर्वात मोठा जिल्हा आहे.
 A) बस्तर B) कच्छ C) बुर्दवान D) लेह लडाख
 Which _____ is India's largest district (care wises) ?
 A) Bastar B) Kachchh C) Burdwan D) Leh-Laddakh
78. दक्षिण भारतातील सर्वात लांब नदी कोणती?
 A) गंगा B) कावेरी C) गोदावरी D) तापी
 _____ is the largest river of south India.
 A) Ganga B) Kaveri C) Godavari D) Tapi
79. विद्युत शक्तीचे परिणाम कोणते?
 A) व्होल्ट B) अॅम्पेअर C) कोलोम D) वॅट
 What is the unit for the measurement of Electricity?
 A) Volt B) Ampere C) Coloum D) Watt

80. महाराष्ट्राची राजधानी कोणती?

- A) नागपूर B) पुणे C) औरंगाबाद D) मुंबई
Which is the Capital of Maharashtra?
A) Nagpur B) Pune C) Aurangabad D) Mumbai

81. महाराष्ट्राचे उपमुख्यमंत्री कोण आहेत?

- A) अजित पवार B) एकनाथ खडसे
C) चंद्रकांत पाटील D) यापैकी नाही
Who is the Deputy Chief minister of Maharashtra state?
A) Ajit Pawar B) Eknath Khadse
C) Chandrkant Patil D) None of these

82. खालील चौकोनात प्रश्नचिन्हाच्या येणारी संख्या कोणती?

3	?	1
2	4	6
7	0	5

- A) 6 B) 7 C) 8 D) 9
Which is the missing number in number matrix?
A) 6 B) 7 C) 8 D) 9

पुढील प्रश्नांमध्ये पहिल्या दोन पदांचा जसा संबंध आहे, तसाच संबंध तिसऱ्या व प्रश्नचिन्हाच्या जागी असलेल्या पदांमध्ये आहे हा संबंध लक्षात घेऊन प्रश्न चिन्हाच्या जागी येणारे उत्तर शोधा.

Identify the relation between each of the given pair on either side of :: and find the missing figure/ term.

83. 9 : 89 :: 100 : ?

- A) 901 B) 1009 C) 10008 D) 9999

84. AD : EH :: QT : ?

- A) RS B) UX C) VW D) JK

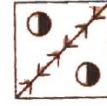

85. भाजीपाला : किलोग्रॅम :: दुध : ?

- A) मोजणे B) लिटर C) डेअरी D) गाय
Vegetables : Kilogram :: Milk : ?
A) Measure B) Litre C) Dairy D) Cow

86. खालील प्रश्न आकृतीचे आरशातील प्रतिबिंब शोधा.

प्रश्न आकृती

उत्तर आकृती



A)

B)

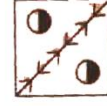
C)

D)

Find the mirror image of the question figure from the option

Question Figure

Answer Figure



A)

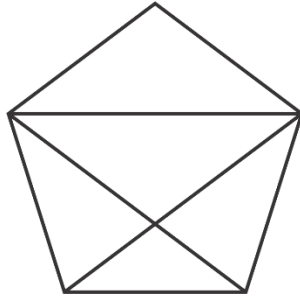
B)

C)

D)

87. खालील आकृतीतील त्रिकोणाची संख्या किती?

Number of triangles in the figure given below is _____



A) 10

B) 9

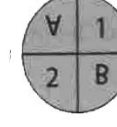
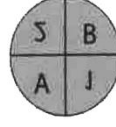
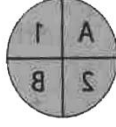
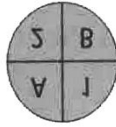
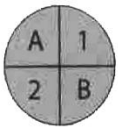
C) 8

D) 11

88. खालील प्रश्न आकृतीची पाण्यातील प्रतिमा शोधा.

प्रश्न आकृती

उत्तर आकृती



A)

B)

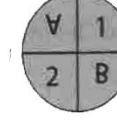
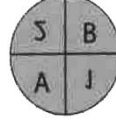
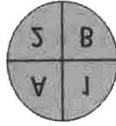
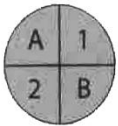
C)

D)

Find the water image of the question figure from the option

Question Figure

Answer Figure



A)

B)

C)

D)

89. खालील शब्दाचा योग्य क्रम लावा.

1. जन्म 2. मुलगा 3. शाळा 4. नौकरी 5. शिक्षण
A) 2,3,1,5,4 B) 2,1,3,4,5 C) 1,2,3,5,4 D) 2,1,5,3,4

Arrange the following words in a logical sequence.

1. Birth 2. Child 3. School 4. Job 5. Education
A) 2,3,1,5,4 B) 2,1,3,4,5 C) 1,2,3,5,4 D) 2,1,5,3,4

90. 21 विद्यार्थी एका रांगेत उभे आहेत. दिपक मध्यभागी उभा आहे तर त्याचा डावीकडून व उजवीकडून क्रमांक कोणता?

- A) 12 वा B) 10 वा C) 11 वा D) 9 वा

21 Students are standing in a line. Deepak is in the middle. What is his position from the left as well as right?

- A) 12th B) 10th C) 11th D) 9th

91. विसंगत पर्याय निवडा.

Find the odd man out.



A)

B)

C)

D)

92. खालील गटाशी सुसंगत पर्याय निवडा.

जानेवारी, मे, जुलै _____

- A) फेब्रुवारी B) एप्रिल C) ऑगस्ट D) सप्टेंबर

Find the word that belongs to the group.

January, May, July, _____

- A) February B) April C) August D) September

93. 2006 मध्ये प्रजासत्ताक दिवस गुरुवारी होता तर 2007 मध्ये कोणत्या दिवसी असेल?

- A) शनिवार B) रविवार C) शुक्रवार D) सोमवार


Republic day in the year 2006 fell on Thursday. On which day did it fall in the year 2007?

- A) Saturday B) Sunday C) Friday D) Monday

94. प्रश्नचिन्हाच्या जागी येणारी आकृती ओळखा.

प्रश्न आकृती


उत्तर आकृती



Which is the missing figure?

Question Figure

Answer Figure



95. दिलेली प्रश्न आकृती पर्यायातील ज्या आकृतीत लपलेली आहे तो पर्याय निवडा.\

Identify in which of the following figures question figure is exactly embedded as one of its part?

प्रश्न आकृती

उत्तर आकृती



A)


B)

C)

D)

Question Figure

Answer Figure



A)

B)

C)

D)

96. खालील अक्षरमालेत M हे अक्षर किती वेळा आले आहे?

M A B C M D E F M C M X Y Z M A B M H N

A) 5

B) 6

C) 7

D) 4

How many time M is appeared in the above letter series.

M A B C M D E F M C M X Y Z M A B M H N

A) 5

B) 6

C) 7

D) 4

97. खालीलपैकी विसंगत पर्याय कोणता?

A) पुणे B) दिल्ली C) नागपूर D) मुंबई

Find the odd man out.

A) Pune B) Delhi C) Nagpur D) Mumbai

98. एका सांकेतिक भाषेत METAL हा शब्द NFUBM असा लिहितात तर SILVER हा शब्द कसा लिहाल.

If 'METAL' is coded as 'NFUBM' then 'SILVER' will be coded as _____

A) RHUKDQ B) TJMWFS C) TJMFWS D) RHKUDQ

99. खालील अंकमालेत गाळलेले पद भरा.

2, 5, 10, 17, 26, 37, _____ ?

A) 51 B) 50 C) 55 D) 65

Find the missing term in the given series.

2, 5, 10, 17, 26, 37, _____ ?

B) 51 B) 50 C) 55 D) 65

100. खालीलपैकी कोणत्या नेत्याचा नुकताच थाटात अमृत महोत्सव साजरा करण्यात आला?

A) नरेंद्र मोदी B) शरद पवार
C) लालकृष्ण आडवाणी D) सोनिया गांधी

Who among the following leaders just celebrated his 75th birthday in a grand function.

A) Narendra Modi B) Sharad Pawar
C) Lalkrushna Adwani D) Sonia Gandhi