

प्रश्नपुस्तिका पर्यवेक्षकांनी सांगितल्याशिवाय उघडू नये...

Do not open this booklet until asked to do so...

# RATIONALIST TALENT SEARCH EXAM 2017

## RTSE

### Question Booklet

STD : III

वर्ग: 3 रा

Roll No.

--	--	--	--	--	--	--	--	--	--

Date of Examination : 12 February 2017 Sunday

### परीक्षार्थीसाठी सुचना / Guidelines for the Candidate

1. आपल्याच नावाची व परिक्षा क्रमांकाची उत्तर पत्रिका मिळाल्याची खात्री करून घ्यावी.  
Check to make sure that you have received the appropriate answer sheet of your name and roll number.
2. परिक्षा सुरु होण्यापूर्वी विद्यार्थ्यांना त्यांच्या संपूर्ण माहितीची खात्री करण्यासाठी 30 मिनिटे अधिक वेळ देण्यात येईल.  
You will get additional 30 minutes to check and make sure about the information about yourself on the Answer Sheet before the start of the exam.
3. सदर प्रश्नपुस्तिकेमध्ये एकूण 100 प्रश्न असून प्रत्येक प्रश्नासाठी 2 गुण आहेत.  
This question booklet contains 100 questions each question carries 2 marks.
4. सर्व प्रश्न सोडविणे आवश्यक आहे. चुकीच्या उत्तराबद्दल मिळालेल्या गुणातून कुठल्याही प्रकारचे गुण वजा केले जाणार नाहीत.  
All questions are compulsory. There is no negative marking.
5. आपल्याच वर्गाची प्रश्नपुस्तिका मिळाल्याची खात्री करून घ्यावी.  
Check to make sure that you have received the appropriate test booklet for your standard.
6. पर्यायामध्ये केवळ एकच उत्तर बरोबर आहे. बरोबर उत्तरासाठी एकच पर्याय निवडावा.  
There is only one correct answer. Choose only one option for an answer.
7. उत्तराचा पर्याय रंगविण्यासाठी केवळ काळा/ निळा रंगाचा बॉलपेनच वापरावा.  
To mark your choice of answers by darkening the circles in the Answer Sheet, use a **Blue/Black Ball, Pen only. Eg.**

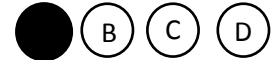
**Q. x : - Fill in the blanks.**

**My father went..... To buy some milk.**

a) there                      b) their                      c) They're                      d) here

As the correct answer is option a) you must darken the circle corresponding Q. x

To option a) in the Answer Sheet



8. परिक्षा संपल्यावर तुमची उत्तरपत्रिका पर्यवेक्षकाकडे परत करावी.  
Return the Answer Sheet to the invigilator at the end of the exam.
9. आपल्या परिक्षा क्रमांक प्रश्नपुस्तिकेवर सुध्दा लिहावा व सदर प्रश्नपुस्तिका परिक्षा कालावधीनंतर आपल्या सोबत न्यावी.  
Write your Roll No. on the Question Paper too and take it home for future reference.

Visit [www.rtsexam.com](http://www.rtsexam.com) for Answer key after 8 days

1. खालील वाकप्रचाराचा अर्थ ओळखून उत्तराचा पर्याय निवडा.  
धडा शिकवणे -  
A) पाठ शिकविणे      B) अद्दल घडविणे      C) पाठांतर करणे      D) सवय लावणे
2. गाईचा गोठा तशी वाघाची \_\_\_\_\_  
A) घरटे      B) पिंजरा      C) गुहा      D) गोठा
3. 'अनंत' या शब्दाचा अर्थ खालीलपैकी कोणता?  
A) अमर्याद      B) नंतर      C) भाव      D) अंतर
4. 'साध्य' या शब्दाचा विरुद्धार्थी शब्द खालीलपैकी निवडा.  
A) नासाध्य      B) असभ्य      C) साधक      D) असाध्य
5. खालीलपैकी एकवचनी शब्दाचा पर्याय निवडा.  
A) पेढे      B) वेडे      C) खेडे      D) रेडे
6. खालीलपैकी नाम नसलेला पर्याय निवडा.  
A) हिरा      B) हिरवा      C) हिरकणी      D) हिंग
7. खालीलपैकी अशुद्ध शब्द ओळखा.  
A) पन्ति      B) स्वच्छ      C) ग्राहक      D) मृग
8. Mark the word with the similar meaning  
Error  
A) False      B) True      C) Grief      D) Mistake
9. Tick the correct meaning for the word below.  
Victory  
A) Win      B) Lost      C) Defeat      D) None of these
10. Mark the plural of the word given below.  
STORY  
A) Story      B) Storys      C) Stories      D) None of these
11. Fill in the blanks with suitable option:  
We are doing \_\_\_\_\_ work.  
A) your      B) His      C) is      D) our
12. Find the opposite meaning of the word written in capital letters.  
FORGET  
A) Things      B) Remember      C) Support      D) Bring

13. Find the synonyms of the word written in capital letters.

CLOSE

A) Open

B) Stop

C) Down

D) Shut

14. If singer is to singing then writer is to \_\_\_\_\_.

A) Reading

B) Writing

C) Running

D) None of these

15. Find out the type of sentence given below.

Please, tell me the truth

A) Request

B) Exclamation

C) Statement

D) Command

16. अमितने खालील तीन वस्तू खरेदी केल्या त्या तीन वस्तूंची एकूण किंमत किती?



रु.४०



रु.१०



रु.५

A) रु.४०

B) रु.३५

C) रु.३०

D) रु.५५

Amit bought these three things. What was the total cost of these three items ?



Rs. 40



Rs. 10



Rs. 5

A) Rs. 40

B) Rs.35

C) Rs. 30

D) Rs.55

17. 3 दिवस = \_\_\_\_\_ तास

A) ७२ तास

B) २४ तास

C) १२० तास

D) ४० तास

3 Days = \_\_\_\_\_ hours.

A) 72 hrs

B) 24 hrs

C) 120 hrs

D) 40 hrs

18. २४ ही संख्या रोमन अंकात कशी लिहाल.

How will you write 24 in Roman numeral?

A) XIV

B) XXXIV

C) IIV

D) XXIV

19. ९००० मिली = \_\_\_\_\_ लिटर

A) ९ लिटर

B) ९०० लिटर

C) ९९ लिटर

D) ९० लिटर

9000 ml = \_\_\_\_\_ Liter.

A) 9 Liter

B) 900 Liter

C) 99 Liter

D) 90 Liter

20. १२१२१ x ० = ?

A) १२१२१

B) १२१२

C) ०

D) १२१

12121 x 0 = ?

A) 12121

B) 1212

C) 0

D) 121

21. २३२ व २३४ ह्या दोन संख्यांच्या मध्ये येणारी संख्या कोणती?

- A) २३५ B) २३६ C) २३० D) २३३

Which number is between 232 and 234?

- A) 235 B) 236 C) 230 D) 233

22. सूर्याचा आकार कसा आहे ?

- A) चौकोनी B) गोल C) शंकु D) त्रिकोणी

Of what shape is the sun?

- A) Square B) Circle C) Cone D) Triangular

23. खालीलपैकी कोणत्या संख्या उतरत्या क्रमाने लिहिलेल्या आहेत?

- A) १८,८१,७३,४२ B) ७२,६३,६१,५२ C) ७३,८४,११,९ D) ५२,४१,२७,२८

Which of these is arranged in descending order?

- A) 18,81,73,42 B) 72,63,61,52 C) 73,84,11,9 D) 52,41,27,28

24. ४०० ह्या संख्येत किती दशक आहेत?

- A) ० B) ४ C) ४० D) ४००

How many tens are there in 400?

- A) ० B) 4 C) 40 D) 400

25. खालील संख्यामालेतील पुढील संख्या कोणती?

५५५५५, ४४४४४, ३३३, \_\_\_\_\_

- A) २२ B) २२२२ C) २२२ D) ११११

Find the next number in the given series:

55555, 4444, 333, \_\_\_\_\_

- A) 22 B) 2222 C) 222 D) 1111

26. \* चिन्हाच्या जागी कोणता अंक येईल?

४	९	२
-		
३	८	*
-----		
१	१	२

- A) १ B) २ C) ० D) ३






Which number can replace \*?

4	9	2
-		
3	8	*
-----		
1	1	2

- A) 1 B) 2 C) 0 D) 3






° 00 - खालील चित्रलेखाचा अभ्यास करून प्रश्नांची उत्तरे द्या.

° 00 - 2 μ = 'n . |' ° 00 ॥

सफरचंद	
आंबे	
चिक्कू	
केळी	
 = १० मुले	

Instruction: Study the following picture graph and answer the questions below.

° 00 - Fruits liked by kids

Apple	
Mango	
Chickoo	
Banana	
 stands for 10 kids	

27. मुलांना सर्वात जास्त आवडणारे फळ कोणते?

- A) सफरचंद                      B) आंबा                      C) चिक्कू                      D) केळी

Which fruit is liked by most kids?

- A) Apple                      B) Mango                      C) Chickoo                      D) Banana

28. सफरचंद किती मुलांना आवडते?

- A) ४                      B) ४००                      C) ४०                      D) २०

How many kids like apple?

- A) 4                      B) 400                      C) 40                      D) 20


29. कोणती दोन फळे समान मुलांना आवडतात?

- A) सफरचंद व आंबा    B) आंबा व केळी    C) चिक्कू व सफरचंद    D) चिक्कू व केळी

Which two fruits liked by same number of kids?


- A) Apple & Mango    B) Mango & Banana    C) Chickoo & Apple    D) Chickoo & Banana

30. खालील आकृतीतील त्रिकोनांची एकूण संख्या किती?



- A) ३                      B) ८                      C) ४                      D) ६

How many triangles are there in the figure below?



- A) 3                      B) 8                      C) 4                      D) 6

31. रु. ५.५० म्हणजे किती पैसे?

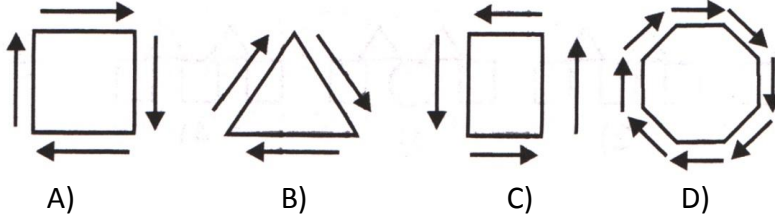
- A) ५५०                      B) ५६०                      C) ५७०                      D) ५८०

How many paise are there in Rs.5.50?

- A) 550                      B) 560                      C) 570                      D) 580

32. खालील आकृत्यांपैकी तीन आकृत्यांत सारखेपणा आहे व एक आकृती वेगळी आहे. वेगळ्या आकृतीचा पर्याय निवडा.

Select the figure which is wrong or different from the sequence that is followed select the correct option



33. खालील प्रश्न आकृतीची आरशातील प्रतिमा कशी असेल ते उत्तर आकृत्यामधून शोधा.

Find the mirror image of the question figure from the answer figures. Select the correct answer.

प्रश्न आकृती

Question figure



उत्तर आकृत्या / Answer figures

NO17

1017

7101

7101

A)

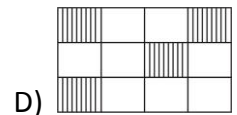
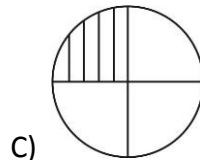
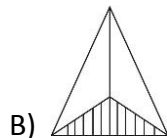
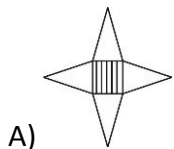
B)

C)

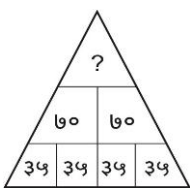
D)

34. खालीलपैकी  $\frac{1}{8}$  रंगविलेली आकृती कोणती?

Which of the following shows - part shaded?



35. प्रश्नचिन्हाच्या जागी येणारी संख्या कोणती?



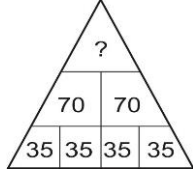
A) ४४०

B) २८०

C) १४०

D) ३५०

Find the missing number



A) 440

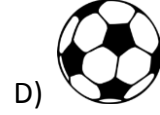
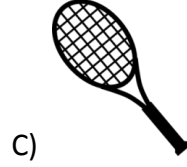
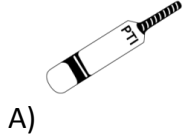
B) 280

C) 140

D) 350



36. गटात न बसणारे चित्र ओळखा.

Find the odd one out.



37. खालील प्रश्नात पहिल्या पदाचा दुसऱ्या पदाशी जसा संबंध आहे अगदी तसाच तिसऱ्या पदाचा चौथा प्रश्न चिन्हाच्या जागी येणाऱ्या पदाशी आहे हे लक्षात घेवून उत्तर पर्याय निवडा.


There is a certain relationship between the pair of figures on the either sides of :: Identify the relation between the pair and find the missing figure at question mark.



A)



B)



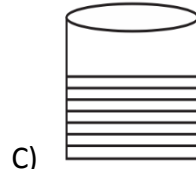
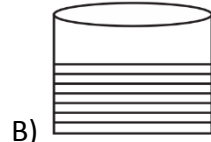
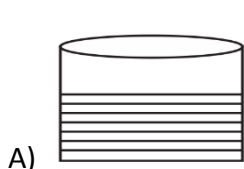
C)



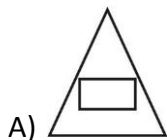

D)

38. खालीलपैकी कोणत्या काचेच्या पात्रात सर्वाधिक पाणी आहे.

Beaker \_\_\_\_\_ contains the most amount of water?




39.



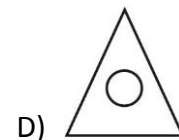
A)



B)



C)



D)

40. चिक्कू सफरचंद पेक्षा स्वस्त आहेत. सफरचंद पेक्षा संत्री महाग आहेत. केळी चिक्कू पेक्षा स्वस्त आहेत तर सर्वात स्वस्त कोणते फळ आहे.


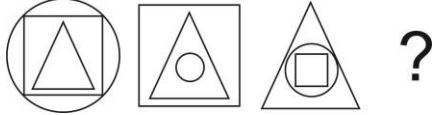
- A) सफरचंद                      B) संत्री                      C) केळी                      D) यापैकी नाही

Chickoo is cheaper than apple. Orange is dear than apple. Banana is cheaper than chickoo. Which is the cheapest fruit?

- A) Apple                      B) Orange                      C) Banana                      D) None of these

41. खालील आकृतीमालेत प्रश्नचिन्हाच्या जागी येणारी आकृती शोधा.

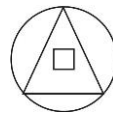
Find the missing figure in the series given below.



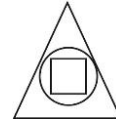
A)



B)



C)



D)

42. खालील संख्यामालेत प्रश्नचिन्हाच्या जागी येणारी संख्या कोणती?

८, १२, १६, १०, ?

- A) ११                      B) १८                      C) १३                      D) १९

Find the number that fits in the given group of numbers.

8, 12, 16, 10, ?

- A) 11                      B) 18                      C) 13                      D) 19

43. खालील गटाशी जुळणारा शब्द शोधा.

जानेवारी, मे, जुलै, \_\_\_\_\_

- A) फेब्रुवारी                      B) एप्रिल                      C) ऑगस्ट                      D) सप्टेंबर

Find the word that belongs to the following group :

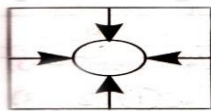
January, May, July, \_\_\_\_\_

- A) February                      B) April                      C) August                      D) September

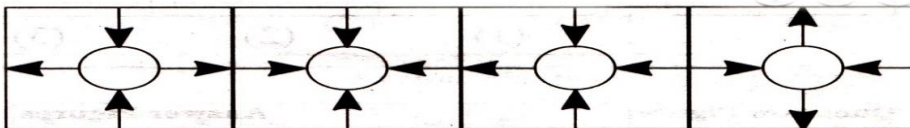
44. खालील प्रश्न आकृतीशी तंतोतंत जुळणारी आकृती उत्तर आकृत्यांमध्ये निवडा.

Out of the given group of figures find out an exact similar figure to the given question figure.

प्रश्न आकृती / Question Figure



उत्तर आकृत्या / Answer Figures



A)

B)

C)

D)



° œ- ' > खालील अंकमालेचे निरीक्षण करा व खालील ४५ ते ४८ प्रश्नांची उत्तरे द्या.

T U W X V T T XU V W T U V

Instruction Observe the number series and answer the following questions 45 to 48

1 2 4 5 31 1 2 3 4 1 2 3 5 1

45. सर्वाधिक वेळा येणारा अंक कोणता?

A) १ B) ५ C) ३ D) २

Which digit is repeated maximum times?

A) 1 B) 5 C) 3 D) 2

46. कोणता अंक सर्वात कमी वेळा आला आहे?

A) २ B) ५ C) १ D) ३

Which digit appears minimum times?

A) 2 B) 5 C) 1 D) 3

47. सर्व विषम संख्यांची बेरीज किती?

A) २३ B) २५ C) २४ D) २२

What is the total of all odd numbers?

A) 23 B) 25 C) 24 D) 22

48. संख्यामालेत समसंख्या किती आहेत?

A) ४ B) ६ C) ३ D) ५

How many even numbers are there?

A) 4 B) 6 C) 3 D) 5

49. खालील आकृतीमधील सरळ रेषांची संख्या किती?



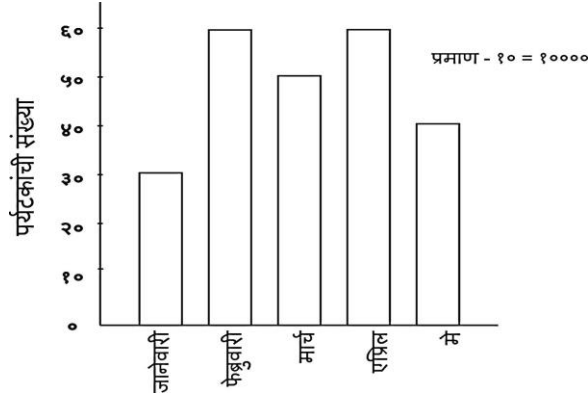
A) ९ B) १० C) ११ D) १२

The figure has \_\_\_\_\_ straight lines.

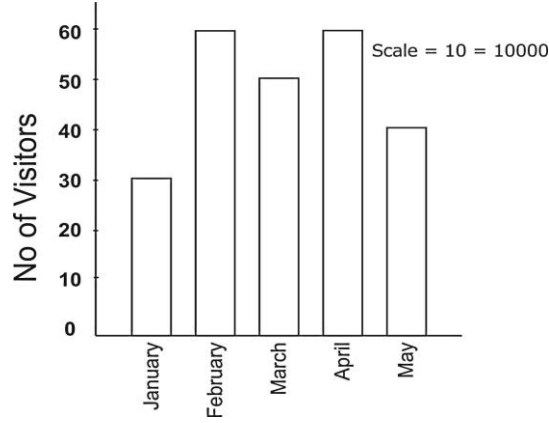


A) 9 B) 10 C) 11 D) 12

° œ- ' > खालील आलेख रायगड किल्ल्याला विविध महिन्यात भेट देणाऱ्या पर्यटकांची संख्या दर्शवत आहे. आलेखाचा अभ्यास करा व प्रश्नांची उत्तरे द्या.



Instruction The graph below shows the number of visitors to the Raigarh fort in various months. Study the graph carefully and answer the question.



50. मार्च महिन्यातील पर्यटकांची संख्या किती?

- A) ५०,०००      B) ५०      C) ३०,०००      D) ५५

There were \_\_\_\_\_ visitors in march.

- A) 50,000      B) 50      C) 30,000      D) 55

51. फेब्रुवारी महिन्यातील पर्यटकांची संख्या जानेवारीतील पर्यटकांच्या संख्येपेक्षा कितीने जास्त आहे?

- A) ४०,०००      B) ३०      C) २०,०००      D) ३०,०००

There were \_\_\_\_\_ more visitors in February than in January.

- A) 40,000      B) 30      C) 20,000      D) 30,000

52. एप्रिल व मे महिन्यातील पर्यटकांची एकूण संख्या किती?

- A) १००      B) १,००,०००      C) १०,००,०००      D) ९०

There were \_\_\_\_\_ visitors in April and May.

- A) 100      B) 1,00,000      C) 10,00,000      D) 90

53. गायीपासून मिळणारे खालीलपैकी दोन अन्नपदार्थ कोणते?

- 1) मलई      2) दही      3) लोणी      4) मध

- A) १ आणि २      B) २ आणि ३      C) १, २ आणि ३      D) १,२,३ आणि ४

Cow is the source of which of the following food items?

- 1) Cream      2) Curd      3) Butter      4) Honey

- A) 1 and 2      B) 2 and 3      C) 1, 2 and 3      D) 1,2,3 and 4

54. खालीलपैकी कशापासून आपणास गोड रस मिळतो?  
 A) नारळ B) बांबू C) आद्रक D) ऊस  
 Which of the following is a stem that gives us sweet juice?  
 A) Coconut B) Bamboo C) Ginger D) Sugar Cane
55. दुध हा एक सकस अन्नपदार्थ आहे कारण, त्यात \_\_\_\_\_ असतात.  
 A) प्रथिने B) स्निग्ध पदार्थ C) जीवनसत्वे व खनिजे D) वरीलपैकी सर्व  
 Milk is a complete food because it contains \_\_\_\_\_.  
 A) Proteins B) Fats C) Vitamins & Minerals D) all of these
56. लेखी संदेश व फोटो पाठविण्यासाठी वापरले जाणारे खालीलपैकी सर्वात वेगवान साधन कोणते?  
 A) पोस्ट कार्ड B) ई-मेल C) टेलिग्राम D) फॅक्स  
 Which among these is the fastest way to send written messages and photographs?  
 A) Post card B) E-mail C) Telegram D) Fax
57. \_\_\_\_\_ हा सर्वात बुद्धिमान प्राणी आहे.  
 A) माणूस B) कोल्हा C) वाघ D) साप  
 \_\_\_\_\_ is the most intelligent of all animals.  
 A) Man B) Fox C) Tiger D) Snake
58. योग्य क्रम लावा.  
 १) खेडे २) भटकंती ३) शेती  
 A) १,२,३ B) २,३,१ C) ३,२,१ D) २,१,३  
 Arrange in the proper sequence:  
 1) Village 2) Wandering 3) Farming  
 A) 1,2,3 B) 2,3,1 C) 3,2,1 D) 2,1,3
59. भरीव चाके फार \_\_\_\_\_ होती.  
 A) महागडी B) हलकी C) जड D) चांगली  
 The solid wheels were very \_\_\_\_\_.  
 A) Expensive B) Light C) Heavy D) Good
60. आपण आपले \_\_\_\_\_ स्वच्छ आणि नीटनेटके ठेवले पाहिजे.  
 A) घर B) शाळा C) वर्ग D) वरीलपैकी सर्व  
 We should keep our \_\_\_\_\_ clean and tidy.  
 A) House B) School C) Class D) All of these
61. नगरपालिकेच्या अध्यक्षाला काय म्हणतात?  
 A) नगराध्यक्ष B) नगरसेवक C) सरपंच D) महापौर  
 The president of the municipality is called \_\_\_\_\_.  
 A) Nagaradhyaksha B) Nagarsevak C) Sarpanch D) Mayor

62. चंद्र \_\_\_\_\_ च्या सर्वात जवळ आहे.



- A) पृथ्वी B) तारे C) सूर्य D) आकाश

The moon is closest to the \_\_\_\_\_

- A) Earth B) Stars C) Sun D) Sky

63. लोकर खालीलपैकी कोणत्या प्राण्यापासून मिळते.

Wool is obtained from which one of the following animals?



64. झाडांना नवी पालवी खालीलपैकी कोणत्या ऋतुत फुटते?

- A) वसंत ऋतू B) पावसाळ्यात C) हिवाळ्यात D) उन्हाळ्यात

Plants bear new leaves in

- A) Spring Season B) Rainy Season C) Winter Season D) Summer Season

65. खालीलपैकी कोणता सजिव आपले अन्न स्वतः तयार करतो.

- A) बेडूक B) मासा C) आंब्याचे झाड D) गाय

Which one of the following living things can prepare its own food?

- A) Frog B) Fish C) Mango Plant D) Cow

66. खालीलपैकी घन पदार्थाचे उदाहरण कोणते?

- A) संगणक B) पाणी C) हवा D) दुध

Which one of the following is an example of solid substance.

- A) Computer B) Water C) Air D) Milk

67. आपले आरोग्य चांगले ठेवण्यासाठी आपण खालीलपैकी कोणते अन्नपदार्थ खाणे टाळले पाहिजे?

- A) भाज्या B) अंडी C) चटपटीत पदार्थ D) फळे

Which kind of food should we avoid in order to maintain good health?

- A) Vegetables B) Eggs C) Junk Food D) Fruits

68. खालीलपैकी सरपटणारा प्राणी कोणता?

- A) मधमाशी B) कोळी C) कावळा D) अनाकौडा

Which one of the following is a reptile?

- A) Honeybee B) Spider C) Crow D) Anaconda

69. खालीलपैकी कोणता प्राणी पाण्यात राहतो?

- A) सिंह B) कासव C) वासरू D) यापैकी नाही

Which one of the following animals lives in water?

- A) Lion B) Turtle C) Calf D) None of these

70. 'पदार्थ' खालीलपैकी कोणत्या अवस्थेत आढळतात ?  
 A) फक्त घन B) घन,द्रव आणि वायू C) फक्त द्रव D) फक्त वायू  
 Matter exists in which one of the following forms?  
 A) Solid only B) Solid, Liquid and gas C) Liquid only D) Gas only
71. टरबूज हे एक \_\_\_\_\_ आहे.  
 A) फळ B) फुल C) भाजी D) प्राणी  
 Watermelon is a / an : -  
 A) Fruit B) Flower C) Vegetable D) Animal
72. खालीलपैकी पाण्यात वाढणारी वनस्पती कोणती?  
 A) कमळ B) पिंपळ C) बाभूळ D) निवडुंग  
 Identify the plant which grow in water?  
 A) Lotus B) Peepal C) Babul D) Cactus
73. सजीवांना जगण्यासाठी \_\_\_\_\_ गरज पडते.  
 A) वाऱ्याची B) हवेची C) पावसाची D) घराची  
 Living things need \_\_\_\_\_ to survive.  
 A) Wind B) Air C) Rain D) House
74. \_\_\_\_\_ पासून आपणास शक्ती मिळते.  
 A) पाणी B) अन्न C) जमीन D) हवा  
 We get energy from \_\_\_\_\_  
 A) Water B) Food C) Land D) Air
75. \_\_\_\_\_ अन्न, पाणी व हवेची गरज भासते.  
 A) निर्जीवांना B) सजीवांना C) A आणि B दोन्हींना D) यापैकी नाही  
 \_\_\_\_\_ needs food, water and Air.  
 A) Non – Living things B) Living things C) Both A & B D) None of these
76. पृथ्वी हा एक \_\_\_\_\_ आहे.  
 A) ग्रह B) उपग्रह C) तारा D) चंद्र  
 Earth is a \_\_\_\_\_  
 A) Planet B) Satellite C) Star D) Moon
77. आपणास समुद्रापासून \_\_\_\_\_ मिळते.  
 A) मासे B) मिठ C) नारळ D) A आणि B  
 We obtain \_\_\_\_\_ from sea water.  
 A) Fish B) Salt C) Coconut D) A and B
78. अश्मयुगातील \_\_\_\_\_ खात असे.  
 A) फळे B) मूळ C) कच्चे मांस D) वरीलपैकी सर्व

In stone age man ate \_\_\_\_\_

- A) Fruits B) Roots C) Raw Flesh D) all of these

79. २, ७, ० व ५ या अंकाचा एकदाच वापर करून तयार होणारी लहानात लहान चार अंकी संख्या कोणती?

- A) ०२५६ B) ७५२० C) २०५७ D) २०७५

Form the smallest four digit number using digits 2,7,0,5 only once.

- A) 0256 B) 7520 C) 2057 D) 2075

80. प्रश्नचिन्हाच्या जागी येणारा शब्द कोणता?

काळा : कावळा :: हिरवा : ?

- A) गवत B) पतंग C) पोपट D) कबुतर

Find the word in the place of question mark

Black: Crow:: Green : ?

- A) Grass B) Kite C) Parrot D) Pigeon

81. गटात न बसणारा शब्द ओळखा.

- A) गाय B) बैल C) गाढव D) कावळा

Find the odd one out.

- A) Cow B) Ox C) Donkey D) Crow

82. शत्रूपासून देशाचे रक्षण कोण करतो?

- A) पोलीस B) ड्रायव्हर C) सैनिक D) पंतप्रधान

Who protects our country from enemy?

- A) Police B) Driver C) Soldier D) Prime Minister

83. भारताचे राष्ट्रीय फळ कोणते?

- A) संत्री B) आंबा C) सफरचंद D) टरबूज

Which is the national fruit of India?

- A) Orange B) Mango C) Apple D) Watermelon

84. भारताचे संविधान \_\_\_\_\_ साली स्विकारले गेले.

- A) १९५० B) १९४७ C) १९४९ D) १९६०

The constitution of India was adopted on \_\_\_\_\_.

- A) 1950 B) 1947 C) 1949 D) 1960

85. महाराष्ट्राची उपराजधानी कोणती?

- A) पुणे B) मुंबई C) औरंगाबाद D) नागपूर

Sub Capital of the Maharashtra is \_\_\_\_\_

- A) Pune B) Mumbai C) Aurangabad D) Nagpur

86. खालीलपैकी महाराष्ट्र दिन कोणता?  
 A) १ नोव्हेंबर B) १ मे C) २६ जानेवारी D) १७ सप्टेंबर  
 Which of the following is Maharashtra formation day?  
 A) 1, November B) 1, May C) 26, January D) 17, September
87. महाराष्ट्रात एकूण जिल्हे किती?  
 A) ३६ B) ३७ C) २८ D) ३२  
 Total number of districts in Maharashtra?  
 A) 36 B) 37 C) 28 D) 32
88. खालीलपैकी कोणती नदी महाराष्ट्रातील नाही?  
 A) कावेरी B) गोदावरी C) भिमा D) कृष्णा  
 Which of the following river is not associated with Maharashtra?  
 A) Kaveri B) Godavari C) Bhima D) Krishna
89. खालीलपैकी कोणत्या खेळाचे स्थानिक नाव 'हू तू तू' हे आहे?  
 A) व्हॉलीबॉल B) बास्केटबॉल C) खो-खो D) कबड्डी  
 Which of the following sport Regional name is 'Hu Tu tu'?  
 A) Volley ball B) Basket ball C) kho kho D) Kabaddi
90. खालीलपैकी महाराष्ट्राचे सुप्रसिद्ध नृत्य कोणते?  
 A) कुचिपुडी B) लावणी C) भरतनाट्यम D) यापैकी नाही  
 Which of the following dance form is popular in Maharashtra state?  
 A) Kuchipudi B) Lavani C) Bharatanatyam D) None of these
91. खालील पैकी शिवाजी महाराजांचे जन्मस्थान कोणते?  
 A) रायगड B) सिंदखेडराजा C) पुणे D) शिवनेरी  
 Which among the following is the birth place of Shivaji Maharaj?  
 A) Raigarh B) Sindhkhedraja C) Pune D) Shivneri
92. महाराष्ट्राच्या शासकीय कामकाजाची भाषा कोणती?  
 A) कोकणी B) मराठी C) हिंदी D) इंग्रजी  
 Which is the official language of Maharashtra?  
 A) Kokani B) Marathi C) Hindi D) English
93. महाराष्ट्रातील सर्वात उंच स्थान कोणते?  
 A) कळसुबाई B) महाबळेश्वर C) यवतमाळ D) भुसावळ  
 Which of the following is the highest point of Maharashtra?  
 A) Kalsubai B) Mahabaleshwar C) Yavatmal D) Bhusaval

94. एका दिवसात किती तास असतात?

- A) ३६ B) २४ C) ६ D) १२

How many hours the day has?

- A) 36 B) 24 C) 6 D) 12

95. 'एल.बी.डब्ल्यू.' हा शब्द कोणत्या खेळाशी निगडित आहे?

- A) फुटबॉल B) बॅडमिंटन C) हॉकी D) क्रिकेट

LBW is related to which sports?

- A) Football B) Badminton C) Hockey D) Cricket

96. रिओ ऑलम्पिक्स २०१६ मध्ये सर्वाधिक सुवर्ण पदके मिळवणारा देश कोणता?

- A) अमेरिका B) चिन C) इंग्लंड D) जर्मनी

Which country won most gold medals in Rio Olympics 2016?

- A) USA B) China C) United Kingdom D) Germany

97. खालीलपैकी कोणत्या महिन्यात सर्वात कमी दिवस असतात.

- A) जानेवारी B) फेब्रुवारी C) मार्च D) एप्रिल

Which month has least number of days?

- A) January B) February C) March D) April

98. खालीलपैकी कशापासून आपणास सौर ऊर्जा मिळते?

- A) झाडे B) चंद्र C) सूर्य D) आग

We get solar energy from?

- A) Trees B) moon C) sun D) fire

99. खालील चौकोनात \* असे चिन्ह असलेल्या ठिकाणी कोणता अंक असेल.

१	२	८
+ ४	६	*
+ ७	२	
६	६	३

- A) ३ B) ४ C) ० D) ५

Find the value of \*. Select the correct answer.

१	२	८
+ ४	६	*
+ ७	२	
६	६	३

- A) 3 B) 4 C) 0 D) 5

100. शस्त्र बनविण्यासाठी अश्मयुगातील माणूस कशाचा वापर करत असे?

- A) चांदी B) सोने C) दगड D) लोखंड

What kind of materials did the Paleolithic people use to make weapons?

- A) Silver B) Gold C) Rocks D) Iron